

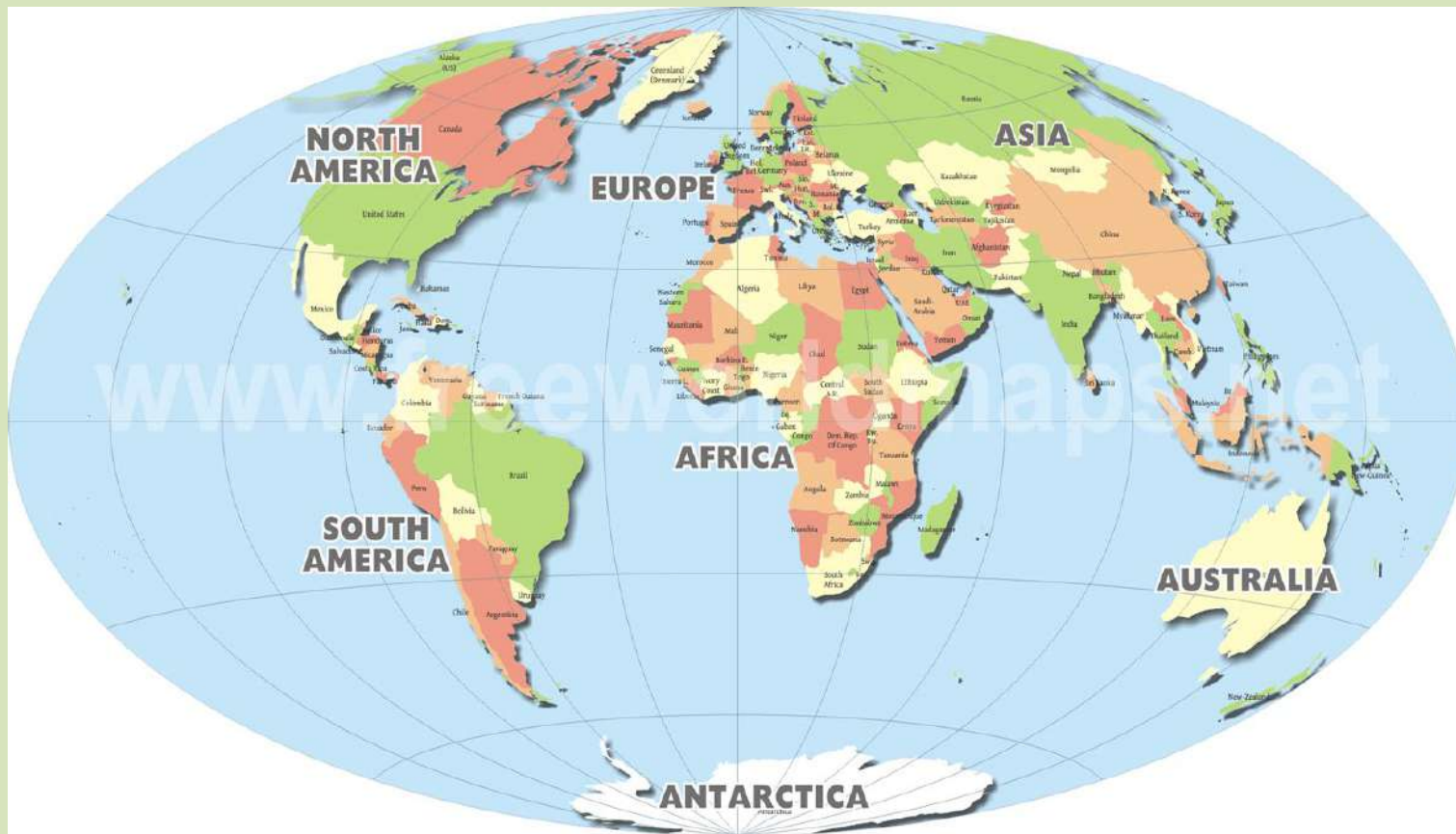
# Europa -poziție geografică .

Țărmuri- golfuri, insule, peninsule , strâmători

# DESCOPERĂ

- Ca suprafață Europa este un continent mic, aproximativ 10 mil km<sup>2</sup>/ locul 6
- Europa este al treilea continent ca număr de locuitori( după Asia și Africa).
- Are o populație de 747 milioane locuitori (2020).
- Pentru asiatici Europa este Pământul unde apune “Soarele”.
- Latitudinal Europa este situată în emisfera nordică , iar longitudinal în emisferele estică și vestică.

- Împreună cu Asia formează un singur continent numit Eurasia și datorită faptului că este înconjurată pe trei laturi de apă are aspectul unei peninsule.
- Cea mai mare parte a continentului se află situat în zona de climă temperată, iar partea extrem nordică se află în zona de climă rece.
- Este străbătută de meridianul Greenwich / meridianul de  $0^\circ$  și de paralela de  $45^\circ$  latitudine nordică.
- Este un continent ce are un contur neregulat cu o mare varietate de țărmuri.



# EUROPA CONTINENTALĂ

punctele extreme

N- Capul Nord  $71^{\circ}08'$  lat N

E- Mții Ural

$67^{\circ}30'$  long E



V- Capul Roca

$9^{\circ}37'$  long V


S- Capul Tarifa  $36^{\circ}$  lat N

- **Activitate**

Pe baza hărții de mai sus descoperă țara în care se află fiecare punct extrem al Europei și completează spațiile de mai jos:

Punctul cardinal	Punctul extrem	Țara
NORD	.....	.....
SUD	.....	.....
EST	.....	.....
VEST	.....	.....


Capul Nord



Capul Roca



Capul Tarifa



# Vecinii Europei



**În Nord** - se învecinează cu Oceanul Arctic

**În Sud**- se învecinează cu Africa

**În Vest**- se învecinează cu Oceanul Atlantic

**În Est** - se învecinează cu Asia

( Munții Ural, Fluviu Ural, Marea Caspică, Marea Neagră)



# Articulațiile țărului



Peninsule	Scandinavă, Kola, Iutlanda, Iberică, Italică, Balcanică, Crimeea
Insule	Islanda, Irlanda, Arhipelagul Britanic, Corsica, Sicilia, Sardinia, Creta, Cipru, Malta.
Strâmători	Gibraltar, Dardanele, Bosfor, Kerçi, Dover
Golfuri	Biscaya, Botnic, Finic

**[Localizează insulele, peninsulele, golfurile și strâmătorile pe harta Europei.](https://wordwall.net/resource/6916701)**  
**<https://wordwall.net/resource/6916701>**

Configurația țărmurilor Europei a fost influențată de evoluția geologică, de climă, de caracteristicile oceanelor și mărilor. Astfel, se diferențiază următoarele tipuri de țărmuri:

- Țărm cu fiorduri
- Țărm cu rias
- Țărm cu canale de tip dalmatic
- Țărm cu poldere
- Țărm cu delte

# Țărm cu fiorduri

Sunt țărmuri înalte, puternic crestate, formate prin invadarea văilor glaciare de către apele marilor. Sunt specifice Norvegiei, Islandei, Nordul Arhip. Britanic.



# Țărm cu riass


Sunt țărmuri înalte, cu numeroase golfuri înguste și ramificate. Se formează în zone cu maree puternice.

La flux, gurile de vărsare ale râurilor au aspect de golf, iar la reflux se transformă în terenuri mlăștinoase, cu insule de nisip. Specific zonei atlantice a Spaniei și Franței.



## Țărm de tip dalmatic

Se prezintă sub forma unor insule paralele cu țărmul. Este specific litoralului Croației, la marea Adriatică.

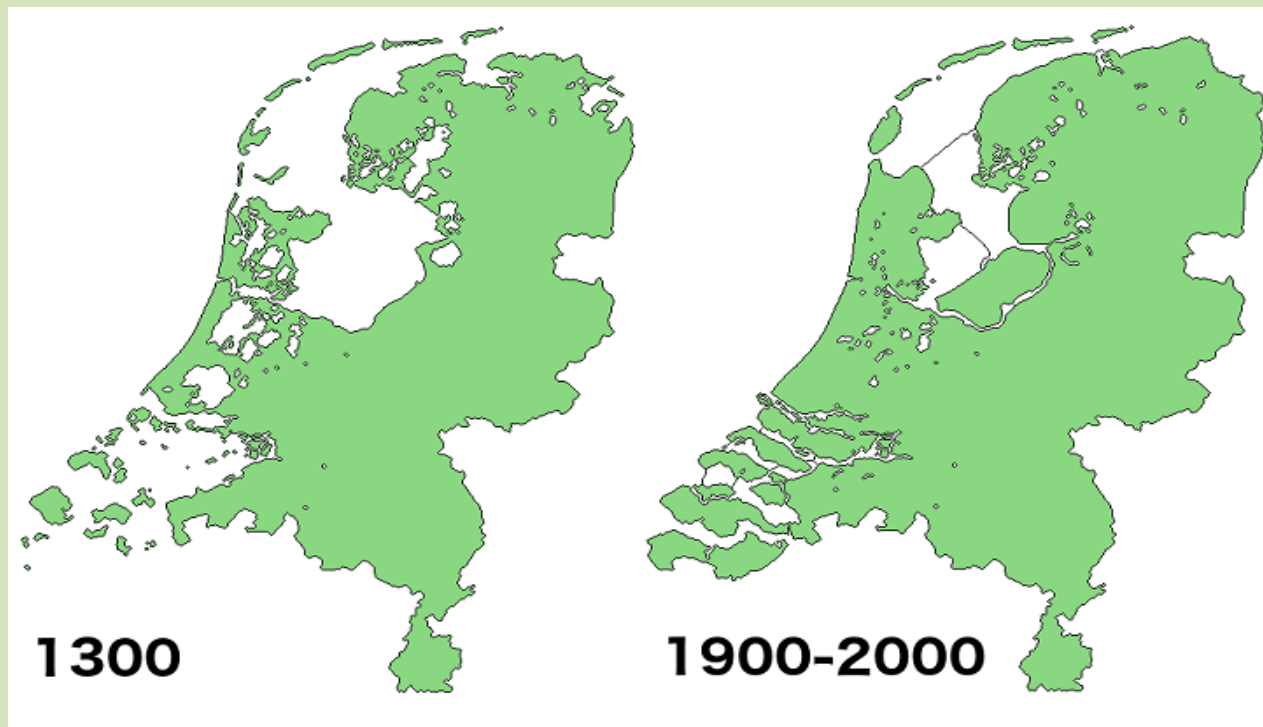


## Țărm cu poldere

Este specific litoralului Olandei. Este un țărm antropoc rezultat prin desecarea unor areale ocupate de apele mării, prin diguri, baraje și canale.



## Evoluția polderelor





## Țărm cu deltă

Este specific fluviilor ale căror gură de vărsare sunt la mări cu marea redusă( ex Volga, Dunărea, Pad, Rin).



# FIȘA DE LUCRU

I. Urmăriți harta de mai jos și identificați vecinii Europei

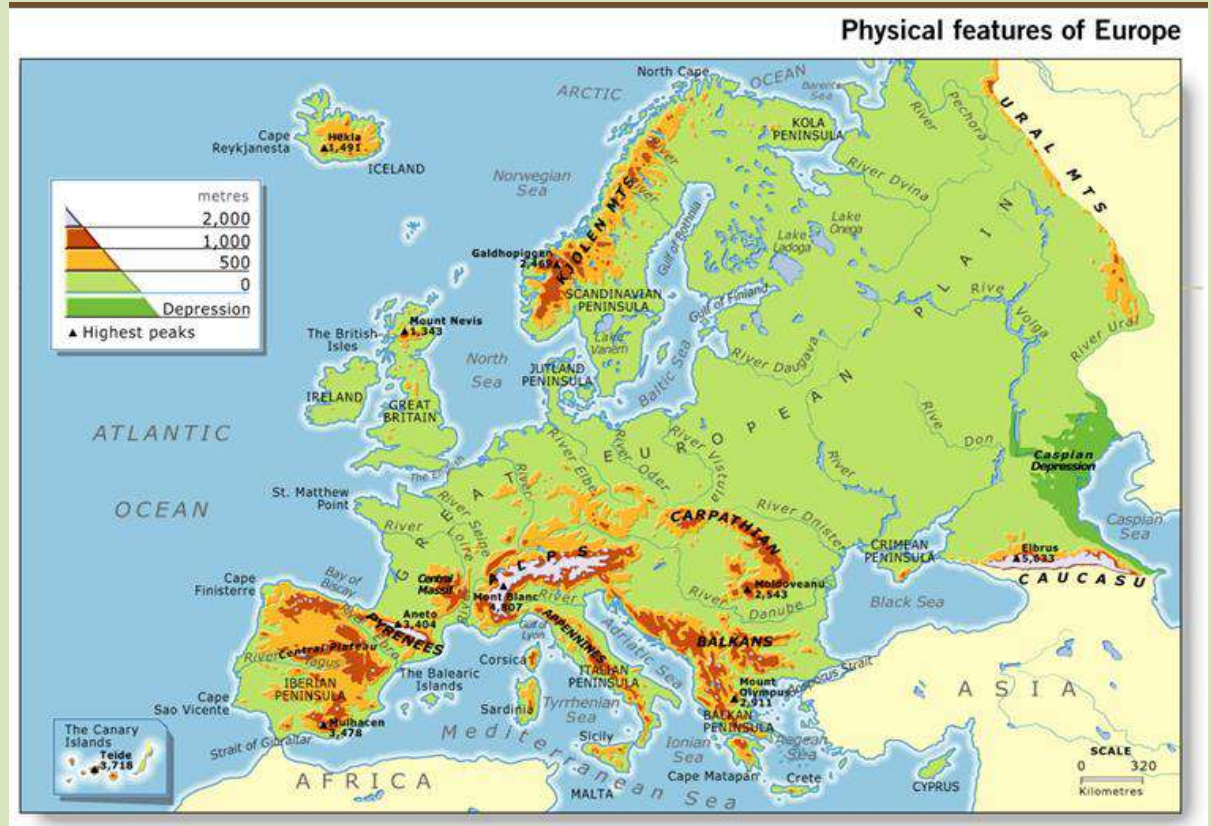
1. Oceanele

A.....

B.....

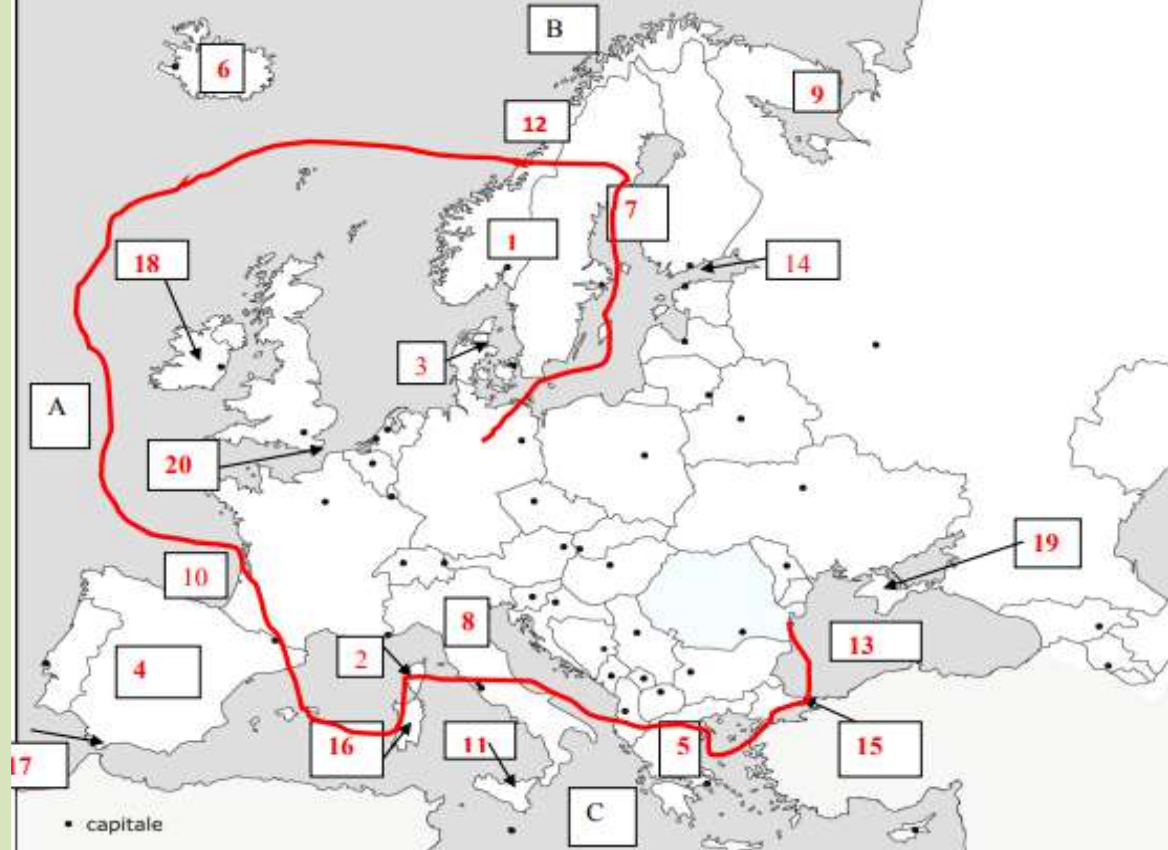
2. Marea

C.....



II Urmăriți harta de mai jos și încercuiți litera corespunzătoare răspunsului corect:

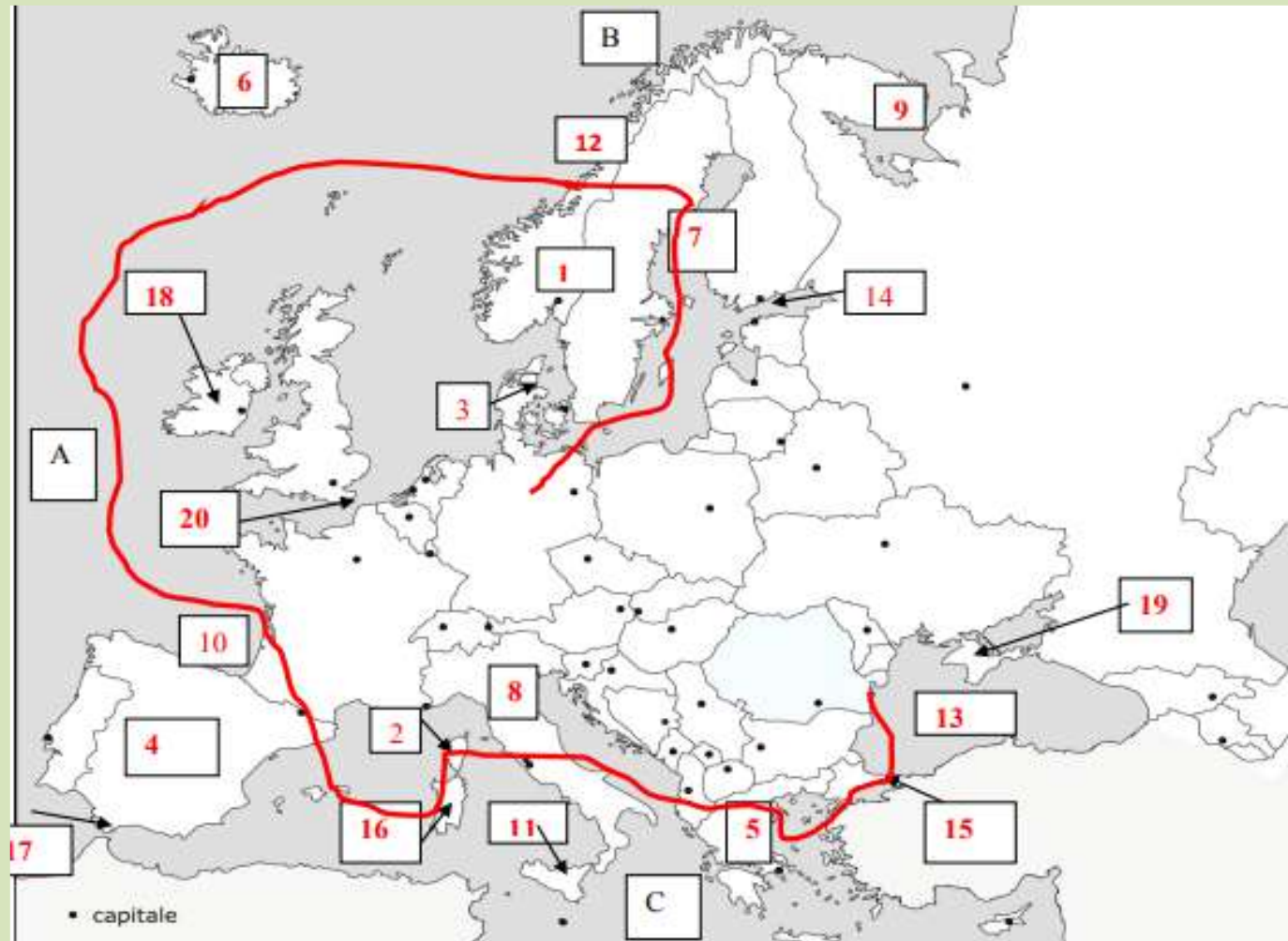
- Peninsula Crimeea este marcată pe hartă cu numărul
- Strâmtoarea Gibraltar este marcată cu numărul
- Insula marcată cu numărul 18 se numește
- Golful marcat cu numărul 14 se numește
- Cu numărul 11 este marcată pe hartă insula
- Strâmtoarea Dover este marcată pe hartă cu numărul
- Peninsula Kola este marcată pe hartă cu numărul
- Marea Mediterană comunică cu Marea Neagră prin strâmtoarea marcată pe hartă cu numărul
- Peninsula Iutlanda este marcată pe hartă cu numărul
- Insula Islanda este marcată pe hartă cu numărul



III. Găsiți termenii geografici care fac referire la elemente ale articulațiilor țărmului european.

<https://learningapps.org/display?v=ptvdwz7j320>

IV. Imaginează-ți că, în vacanța de vară urmează să pleci în concediu, cu părinții. Vei pleca în călătorie din portul Constanța spre Germania. Vei călătorii atât cu vaporul cât și cu mașina. În drumul tău vei străbate mări, golfuri, insule și peninsule. Precizează :



- a. numele mării în care este situat portul Constanța precum și numărul cu care este notată această mare , pe hartă.
- b. numele peninsulelor în ordinea în care le vei străbate, precum și numerele cu care sunt marcate acestea pe hartă.
- c. numele insulelor din Marea Mediterană, pe care le vizitezi și numerele cu care sunt notate acestea pe hartă.
- d. numele golfului pe care îl străbați pentru a ajunge în Oceanul Atlantic și numărul cu care acesta este marcat pe hartă.
- e. tipul de țărm specific regiunii marcate pe hartă cu numărul 12.
- f. numele golfului pe care îl străbați în drumul tău spre Germania și numărul cu care acesta este marcat pe hartă.

## Aplicații

1. *“Morile de vânt nu sunt destinate măcinării cerealelor. Ele pun în funcțiune pompele care scot apa din canale și drenează polderele. Pe terenurile pe care marea le descoperă la marea joasă /reflux, olandezii au delimitat parcele, construind în jurul lor șanțuri și diguri. Acestea sunt polderele. Dar, în această bătălie dusă cu marea, olandezii nu ar fi câștigat deloc dacă nu ar fi fost ajutați de natură”.*

*Explicați de ce olandezi spun că : “Dacă Dumnezeu a creat lumea, olandezii au creat Olanda!”*

*D. Strat, M. Popescu- Geografia continentelor – Geografia Europei, manual pentru clasa a VI a- Editura Teora, 1998*

2. *Explicați de ce , Europa poate fi considerată o peninsulă a Asiei.*

# Bibliografie

- <bg.thumb.png.8c2281654b111de0ae641d161f6fa21f.png> (1000x780) (ageofcivilizationgame.com)
- [Bing](#)
- <europe-map-slide2.png> (720x540) (sketchbubble.com)
- [Fahrt zum Nordkapp \(dt.: Nordkap\) \(Norwegen\), Motorradtour Skandinavien 2001](#) (christianengl.de)
- [www.canstockphoto.fr/cap-roca-portugal-37726311.html](http://www.canstockphoto.fr/cap-roca-portugal-37726311.html)
- [Faro en Cap de Formentor imagen de archivo. Imagen de roca - 2787583](#) (dreamstime.com)
- <https://maps-norway.com/norway-fjords-map#&gid=1&pid=1>
- <https://www.earthmagazine.org/article/dutch-masters-netherlands-exports-flood-control-expertise>
- <https://www.sailboat-cruising.com/passagemaking-rias-bajas.html>
- <https://www.deviantart.com/xgeograd/art/Blank-Map-of-Europe-2015-572993024>

- N.Beliciu, M Dima- Geografie – caiet de lucru clasa pentru clasa a VI a, Editura Booklet , București 2019
- S. Dan, C. Rădulescu, Z. Datcu , N Lazăr, D. Voicu – Geografia Europei- caiet pentru clasa a VI a- Editura Art Educațional, București ,2012
- M. Fiscutean, D. Fiscutean, C Mihai, I. Popa- - Manual Geografie- clasa a VI a- Editura Didactică și Pedagogică, 2017
- S Strat, M Popescu- Geografia continentelor – Geografia Europei, manual pentru clasa a VI a- Editura Teora, 1998
- M. Fiscutean, C Fiscutean, C Mihai , I, Popa- Geografie – manual pentru clasa a VI a – EDP, 2018

Acest material conține imagini disponibile pe internet, preluate fără drept de autor fiind destinat exclusiv procesului didactic .

Prof. Savulov Simona- Colegiul Național „Vasile Goldiș” Arad



## FIȘA DE LUCRU

I. Urmăriți harta de mai jos și identificați vecinii Europei

1. Oceanele

A.....

B.....

2. Marea

C.....

II Urmăriți harta de mai jos și încercuiți litera corespunzătoare răspunsului corect

1. Peninsula Crimeea este marcată pe hartă cu numărul.....
2. Strâmtoarea Gibraltar este marcată cu numărul.....
3. Insula marcată cu numărul 18 se numește.....
4. Golful marcat cu numărul 14 se numește.....
5. Cu numărul 11 este marcată pe hartă insula.....
6. Strâmtoarea Dover este marcată pe hartă cu numărul.....
7. Peninsula Kola este marcată pe hartă cu numărul.....
8. Marea Mediterană comunică cu Marea Neagră prin strâmtoarea marcată pe hartă cu numărul.....
9. Peninsula Iutlanda este marcată pe hartă cu numărul.....
10. Insula Islanda este marcată pe hartă cu numărul.....

III Găsiți termenii geografici care fac referire la elemente ale articulațiilor țărmului european.

<https://learningapps.org/display?v=ptvdwz7j320>

IV. Imaginează-ți că, în vacanța de vară urmează să pleci în concediu, cu părinții. Vei pleca în călătorie din portul Constanța spre Germania. Vei călătoria atît cu vaporul cât și cu mașina. În drumul tău vei străbate mări, golfuri, insule și peninsule. Precizează :

a. numele mării în care este situat portul Constanța precum și numărul cu care este notată această mare , pe hartă.

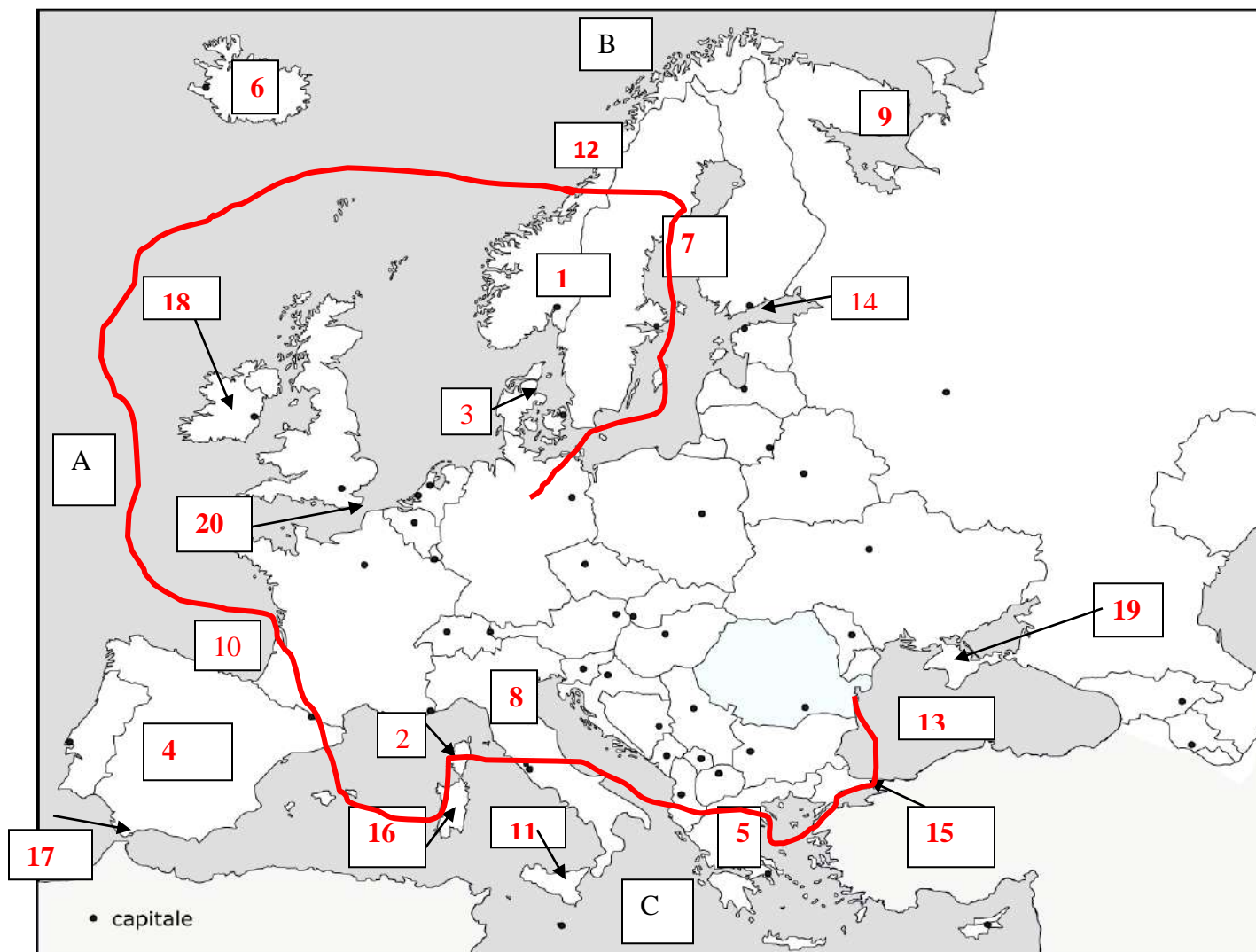
b. numele peninsulelor în ordinea în care le vei străbate, precum și numerele cu care sunt marcate acestea pe hartă.

c. numele insulelor din Marea Mediterană, pe care le vizitezi și numerele cu care sunt notate acestea pe hartă.

d. numele golfului pe care îl străbați pentru a ajunge în Oceanul Atlantic și numărul cu care acesta este marcat pe hartă.

e. tipul de țărm specific regiunii marcate pe hartă cu numărul 12.

f. numele golfului pe care îl străbați în drumul tău spre Germania și numărul cu care acesta este marcat pe hartă.



### Bibliografie

1. N.Beliciu, M Dima- Geografie – caiet de lucru clasa pentru clasa a VI a, Editura Booklet , București 2019
2. S. Dan, C. Rădulescu, Z. Datcu , N Lazăr, D. Voicu – Geografia Europei- caiet pentru clasa a VI a- Editura Art Educațional, București ,2012
3. M. Fiscutean, D. Fiscutean, C Mihai, I. Popa- - Manual Geografie- clasa a VI a- Editura Didactică și Pedagogică, 2017
4. <https://www.deviantart.com/xgeograd/art/Blank-Map-of-Europe-2015-572993024>

*Acest material conține imagini disponibile pe internet, preluate fără drept de autor fiind destinat exclusiv procesului didactic*

Prof. Savulov Simona- Colegiul Național „Vasile Goldiș” Arad