

Unitatea 2. Explorăm Africa

5. Harta Politică și marile orașe

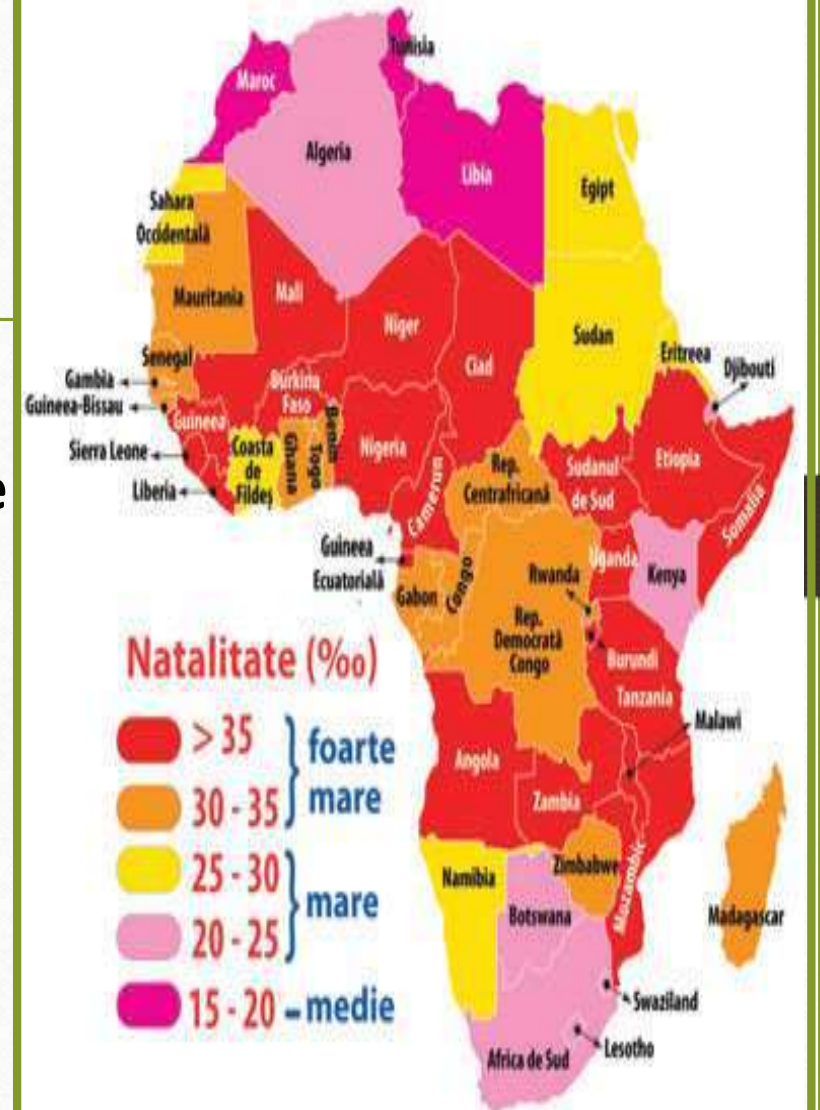
**Profesor: Pap Florian Gheorghe
Școala. Colegiul "Mihai Viteazul"
Ineu**

Test recapitulativ

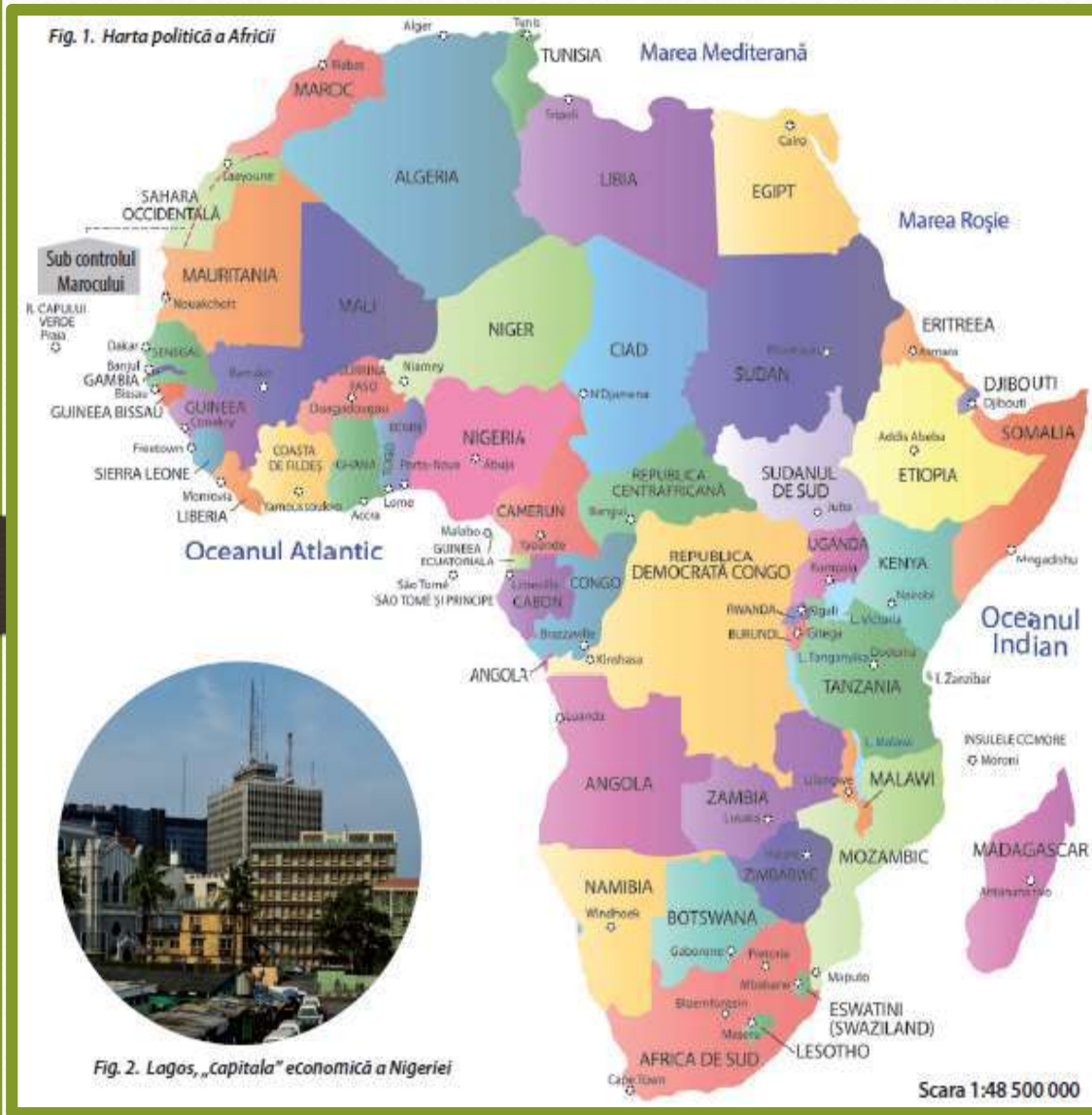


Analizează hărțile și identifică:

1. trei state cu valori foarte mari ale natalității;
2. trei state cu valori foarte mari ale mortalității;
3. un stat cu valori medii ale ambilor indicatori;
4. intervalul în care se încadrează natalitatea în Madagascar (‰);
5. intervalul în care se încadrează mortalitatea în Egipt (‰).



Introducere



1. Ce state africane cunoști?
2. Care sunt statele cu ieșire la Marea Mediterană?
3. Care sunt statele cu ieșire la Marea Roșie?
4. Care este ultimul stat apărut pe harta politică a lumii?
5. De ce crezi că granițele unor state africane sunt drepte și nu sinuoase ca la cele europene și asiatice?
6. De ce crezi că sunt atât de multe conflicte în Africa?

A. HARTA POLITICĂ

- ✓ Reunește totalitatea statelor independente din Africa (**54**), rezultate în urma procesului de decolonizare, ce pot fi clasificate după mai multe criterii.
- ✓ Africa are două state autoproclamate (Somaliland și Republica Arabă Democrată Saharawi) și numeroase teritorii dependente, administrate de către țări europene (Franța, Marea Britanie, Spania, Portugalia, Italia).



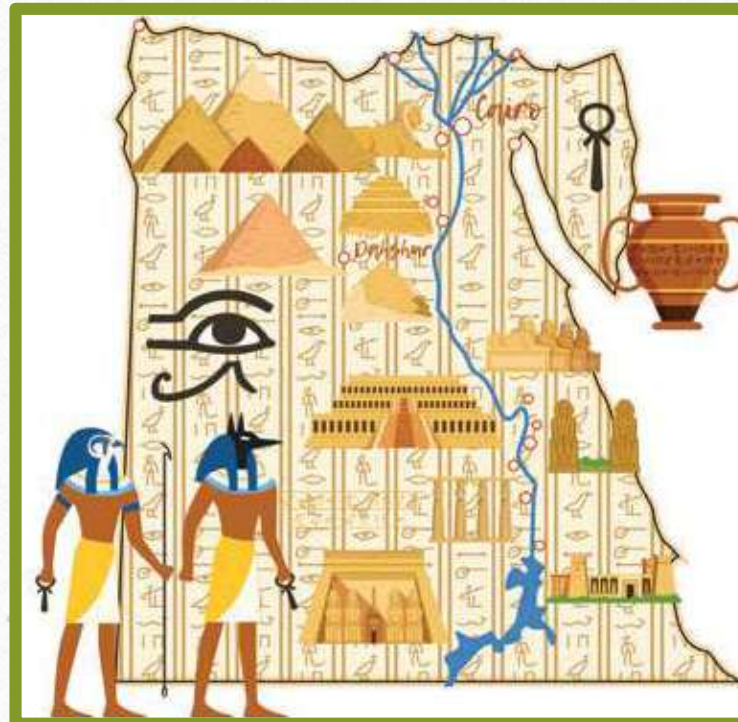
A. HARTA POLITICĂ



✓ (De citit) Pentru că multe dintre granițele statelor africane au fost trasate „din birou”, de către fostele puteri coloniale, există situații în care membrii aceleiași populații au rămas în state diferite sau grupuri rivale au fost prinse între granițele aceluiași stat – drept consecință în Africa au avut loc foarte multe conflicte teritoriale. Sărăcia și suprapopularea nu au făcut decât să accentueze potențialul conflictual al Africii. Procese precum cel de încălzire globală contribuie la extinderea deșertificării, silindu-i pe crescătorii de animale nomazi să pună o presiune și mai mare asupra terenurilor agricole sedentari, amplificând starea de conflictualitate.

B. CONTRASTE TERITORIALE ÎNTRE STATE.

Pe teritoriul Africii se află, deopotrivă, unul dintre cele mai vechi state – Egiptul, existent încă din Antichitate –, dar și cel mai recent stat apărut pe harta politică a lumii, în 2011, respectiv Sudanul de Sud.



B. CONTRASTE TERITORIALE ÎNTRE STATE.

Statele africane pot fi clasificate după mai multe criterii:

1. DUPĂ REGIUNEA GEOGRAFICĂ

-  a. Africa Nordică 7
-  b. Africa Estică 15
-  c. Africa Sudică 9
-  d. Africa Centrală 9
-  e. Africa de Vest 15



2. DUPĂ SUPRAFAȚĂ

a. SUPRAFAȚĂ MARE:

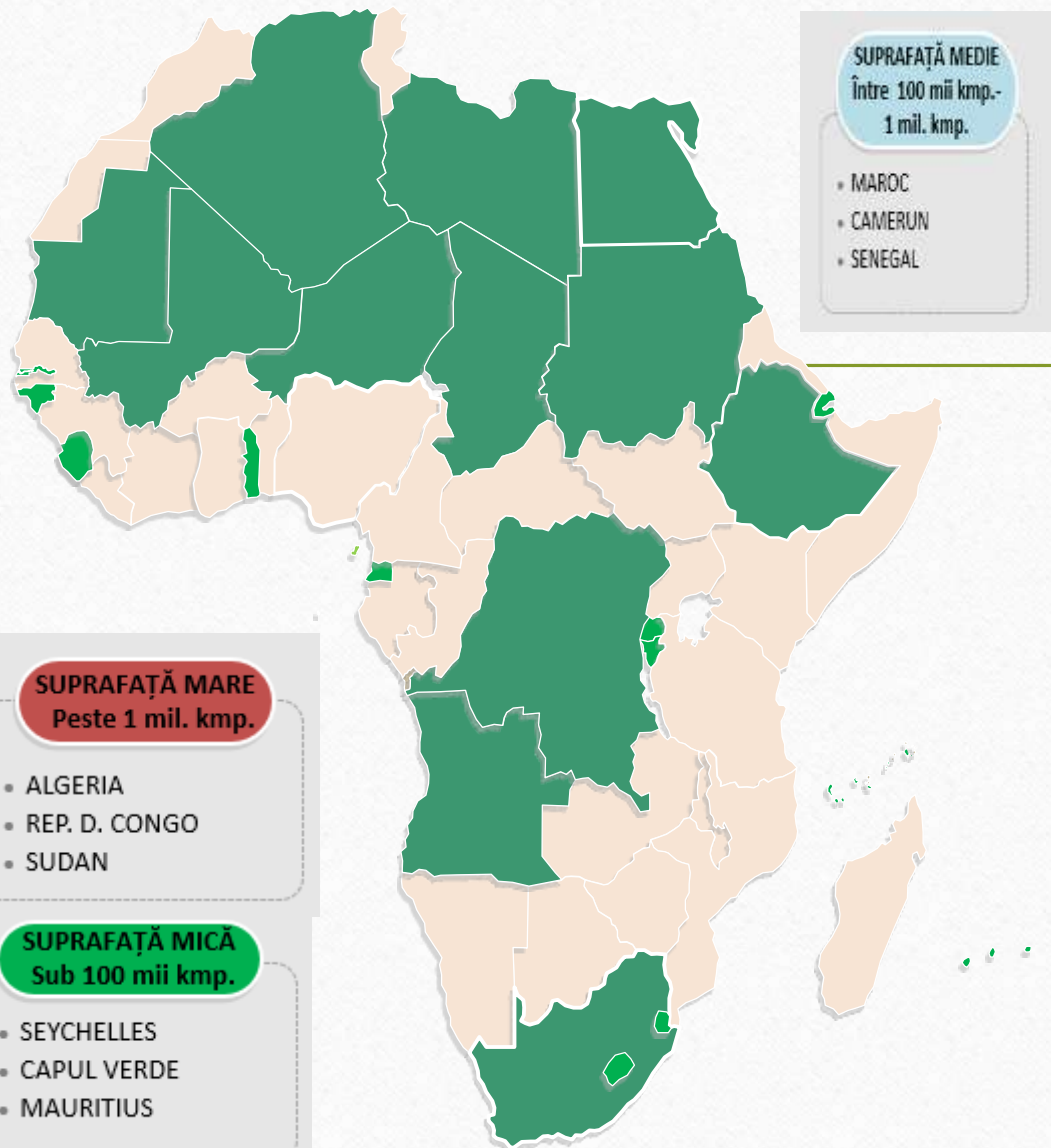
Algeria și R.D. Congo având fiecare peste 2 milioane km²,

b. SUPRAFAȚĂ MEDIE:

iar Sudan, Libia, Ciad, Niger, Angola, Mali, Africa de Sud și Etiopia – peste 1 milion km²;

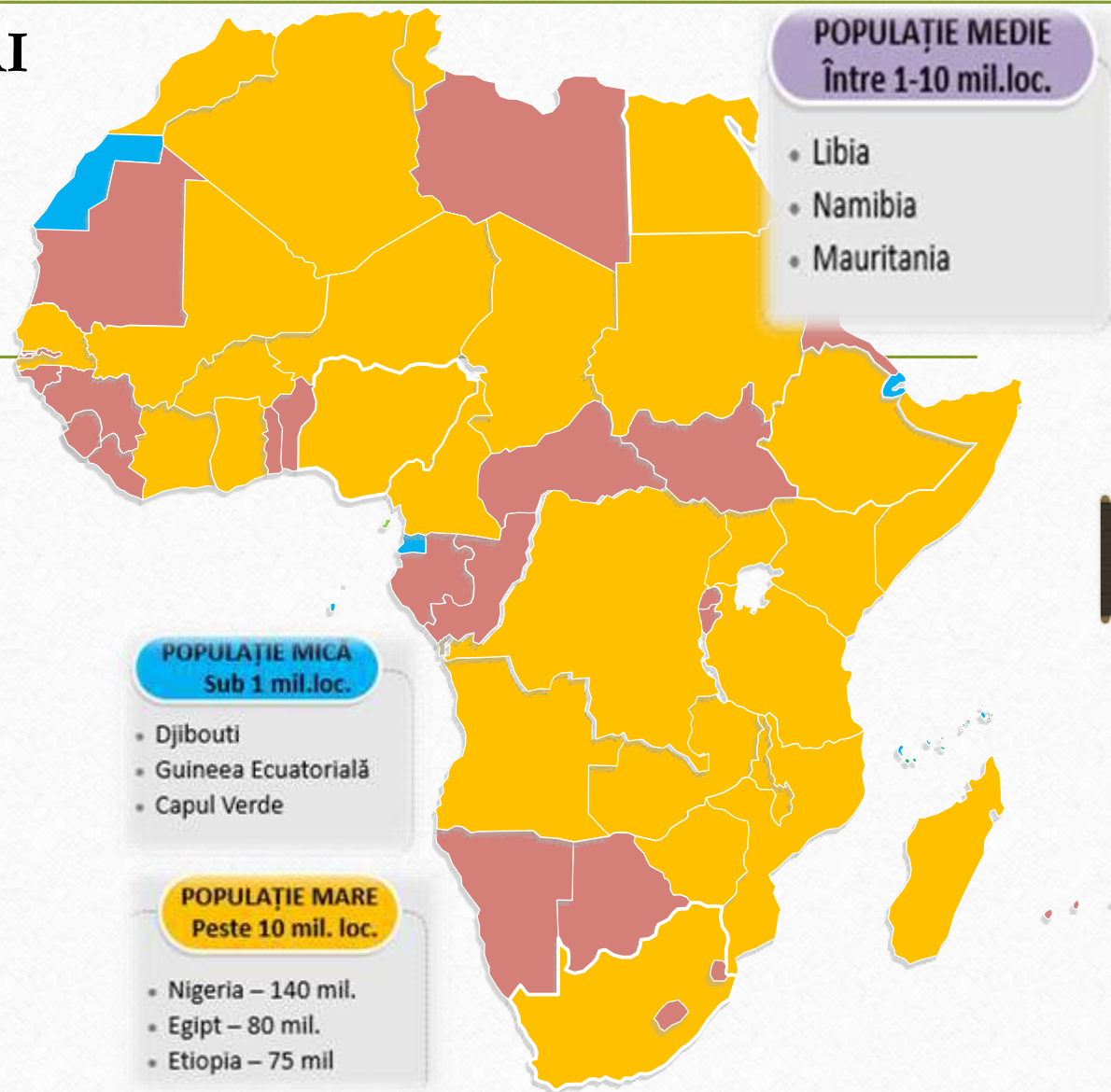
c. SUPRAFAȚĂ MICĂ:

Statele insulare, Djibouti, Guineea Ecuatorială, Lesotho, Eswatini (enclave în Africa de Sud).



3. DUPĂ NUMĂRUL DE LOCUITORI

a. Foarte populate sunt Nigeria (peste 200 mil, Etiopia și Egipt (100 mil.), de Tanzania, Africa de Sud etc. (peste 50 milioane locuitori)



4. DUPĂ MODUL DE GUVERNARE

Majoritatea sunt republici, printre cele câteva monarhii numărându-se Maroc, Eswatini (Swaziland);

MAROC

LESOTHO

SWAZILAND

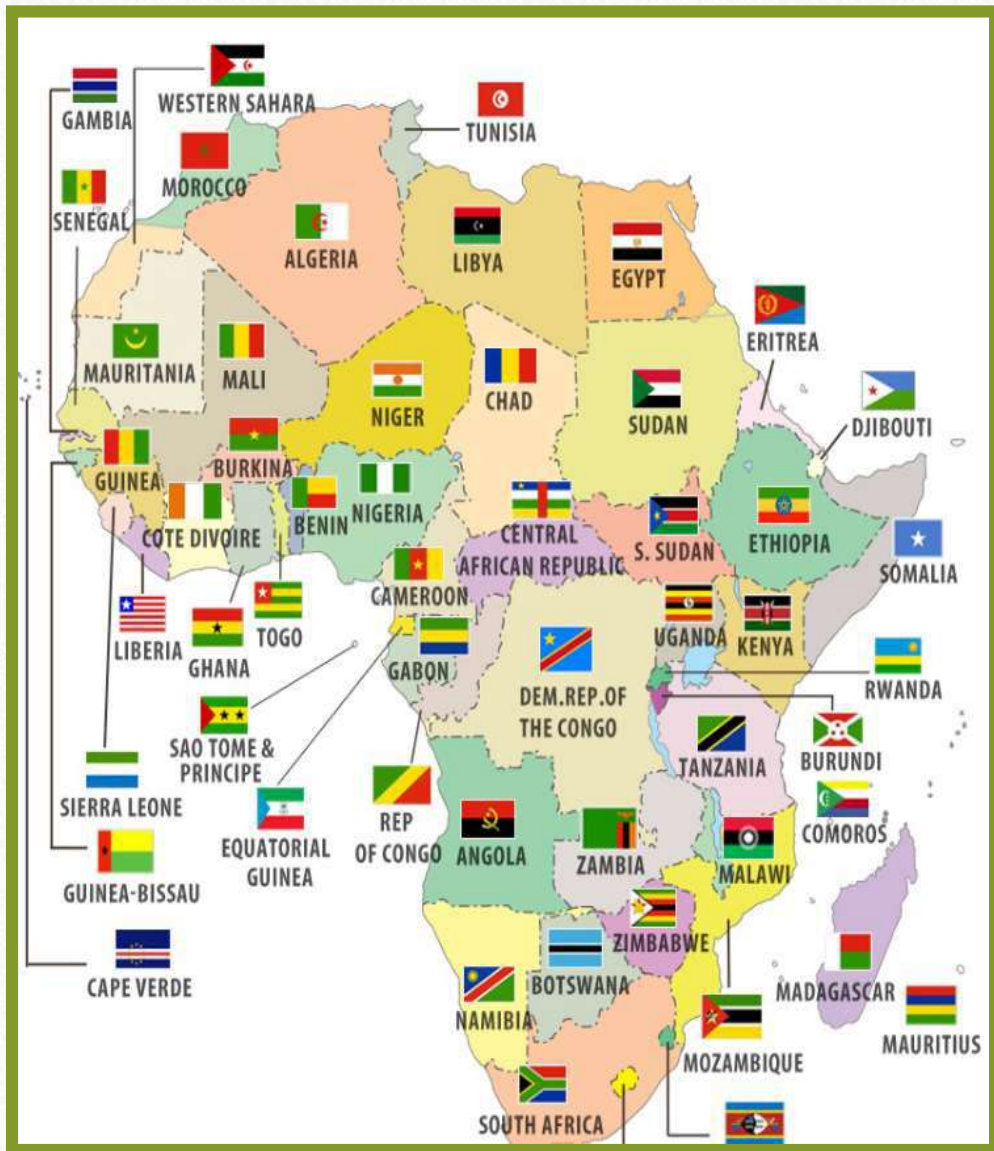


5. DUPĂ FORMA TERITORIULUI

a. State compacte
(majoritatea statelor
africane),

b. State alungite (pe
direcția
nord-sud: Tunisia, Ghana,
Benin, Togo; pe direcția
est-vest: Gambia);





6. DUPĂ POZIȚIA GEOGRAFICĂ

a. State insulare

(Madagascar, Sao Tomé și

Principe, Mauritius, Seychelles etc.),

b. State peninsulare

(Somalia),

c. State continentale (cele mai multe).

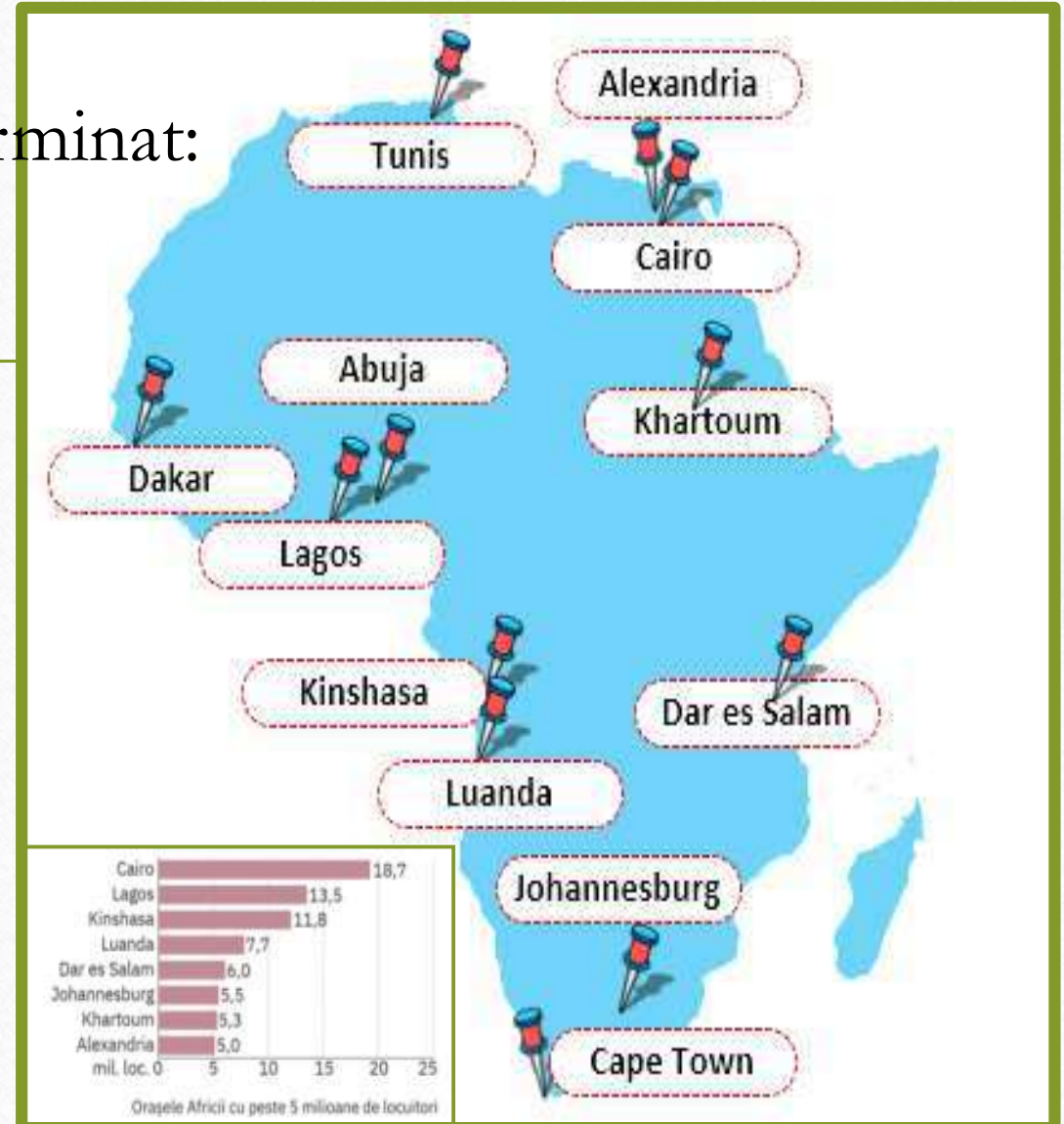
C. Marile orașe africane.

✓ Evoluția numerică rapidă a Populației africane, în prezent, a determinat:

- a. extinderea orașelor
- b. creșterea populației urbane -
- c. Aglomerații urbane:

1. Cairo – 19 mil. Loc.
2. Lagos – 14 mil loc.
3. Kinshasa
4. Johannesburg
5. Luanda.

✓ Marile orașe ale Africii sunt capitalele și porturile.




Orășe în Africa

Johannesburg (Africa de Sud)



Accra (Ghana)



CAIRO (EGIPT)



CAIRO (EGIPT)



LAGOS (NIGERIA)



KINSHASA (REP. D. CONGO)



Test recapitulativ

1. Analizează harta politică a Africii

(fig. 1) și identifică:

a. trei state situate în Deșertul Sahara;

b. trei state situate de-a lungul Marelui

Rift African;

c. două state enclave.

2. Identifică următoarele state africane

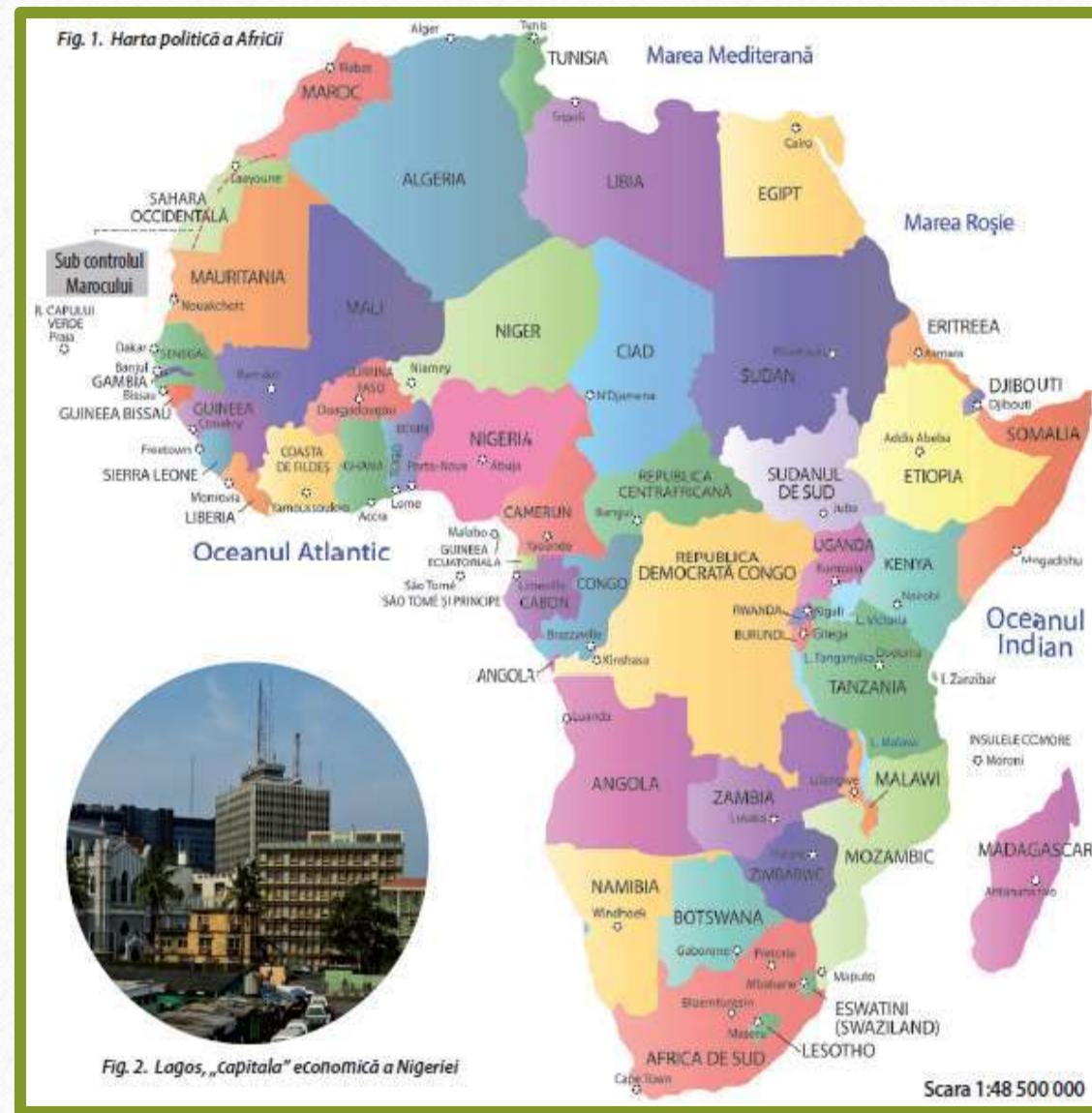
după indiciile oferite:

A – stat cu ieșire la două mări, fostă
colonie britanică;

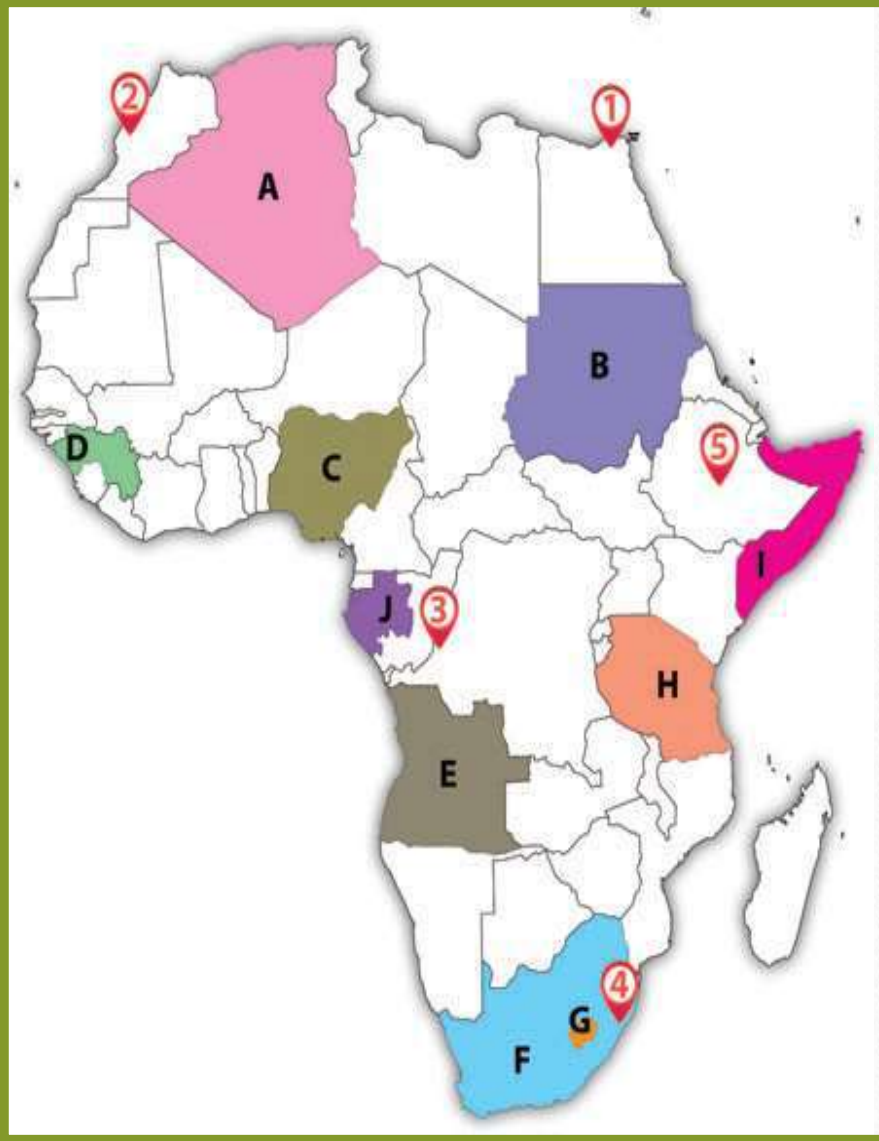
B – situat pe Ecuator, al doilea stat
african ca întindere;

C – stat insular, traversat de Tropicul
de Sud;

D – monarhie, fostă colonie franceză.



1. Test recapitulativ



Pe harta alăturată (5) sunt marcate state, cu litere de la A la J și orașe, cu cifre de la 1 la 5. Analizează harta și rezolvă următoarele sarcină de lucru:

1. Precizează: a. numele statelor marcate cu literede de la **A** la **J** .

b. numele orașelor marcate cu cifre de la **1** la **5**.

2. Scrie, pe caiet, răspunsul corect care completează propozițiile de mai jos: *Model de răspuns: a–A.*

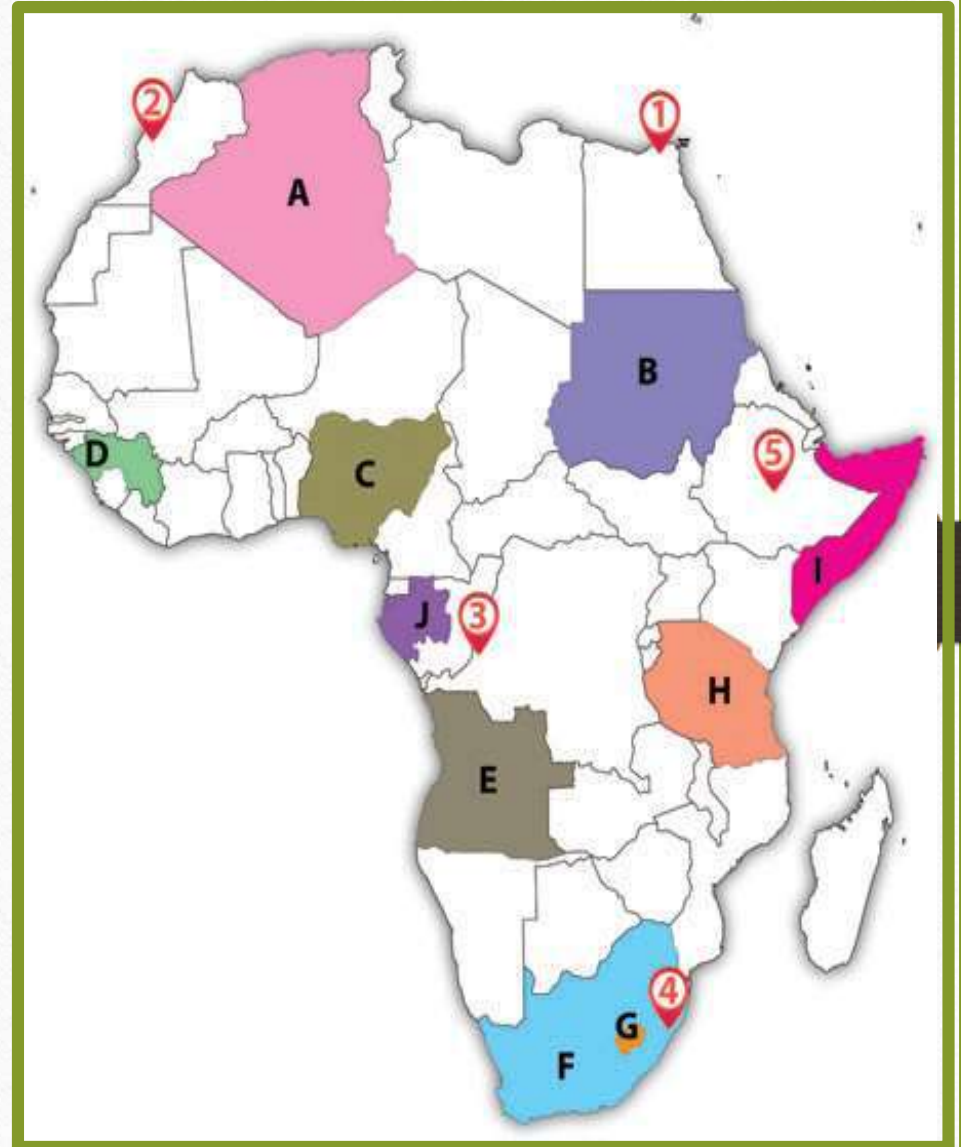
a. Cel mai mare stat ca suprafață din Africa este marcat, pe hartă, cu litera. . .

b. Capitala statului marcat, pe hartă, cu litera **B** se numește. . .

c. Este o enclavă statul marcat, pe hartă, cu litera. .

1. Test recapitulativ

- d. Cel mai mare oraș din statul marcat, pe hartă, cu litera **C** se numește. . .
- e. Regiunea autoproclamată Somaliland este pe teritoriul statului marcat, pe hartă, cu litera. . .
- f. Este capitala Republicii Democrate Congo orașul marcat, pe hartă, cu cifra . .
- g. Este situat în Maroc orașul marcat, pe hartă, cu cifra . . .
- h. După forma de guvernare, statul marcat, pe hartă, cu litera **C** este. . .



BIBLIOGRAFIE

- **Geografie: clasa a VII-a**, Silviu Neguț, Carmen-Camelia Rădulescu, Ionuț Popa, Editura Art Klett, București, 2019;
- **Geografie: manual pentru clasa a VII-a**, Mihaela Fiscutean, Dorin Fiscutean, Ciprian Mihai, Editura Avantgarde Center, București, 2019;
- **Geografie: manual pentru clasa a VII-a**, Marius-Cristian Neacșu Editura CD Press, București, 2019.
- www.wikipedia.org
- www.didactic.ro