

Unitatea 2. Explorăm Africa

4. Specificul demografic

**Profesor: Pap Florian Gheorghe
Școala. Colegiul "Mihai Viteazul"
Ineu**

Test recapitulativ



a
Peisaj din pustiul saharian



b
Un „locatar” al pădurii veșnic verde



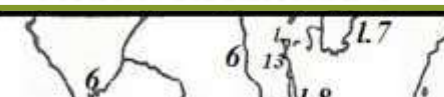
c
Baobabul înfrunzit în sezonul umed



d
Stejari de plută pe coastele Mării Mediterane

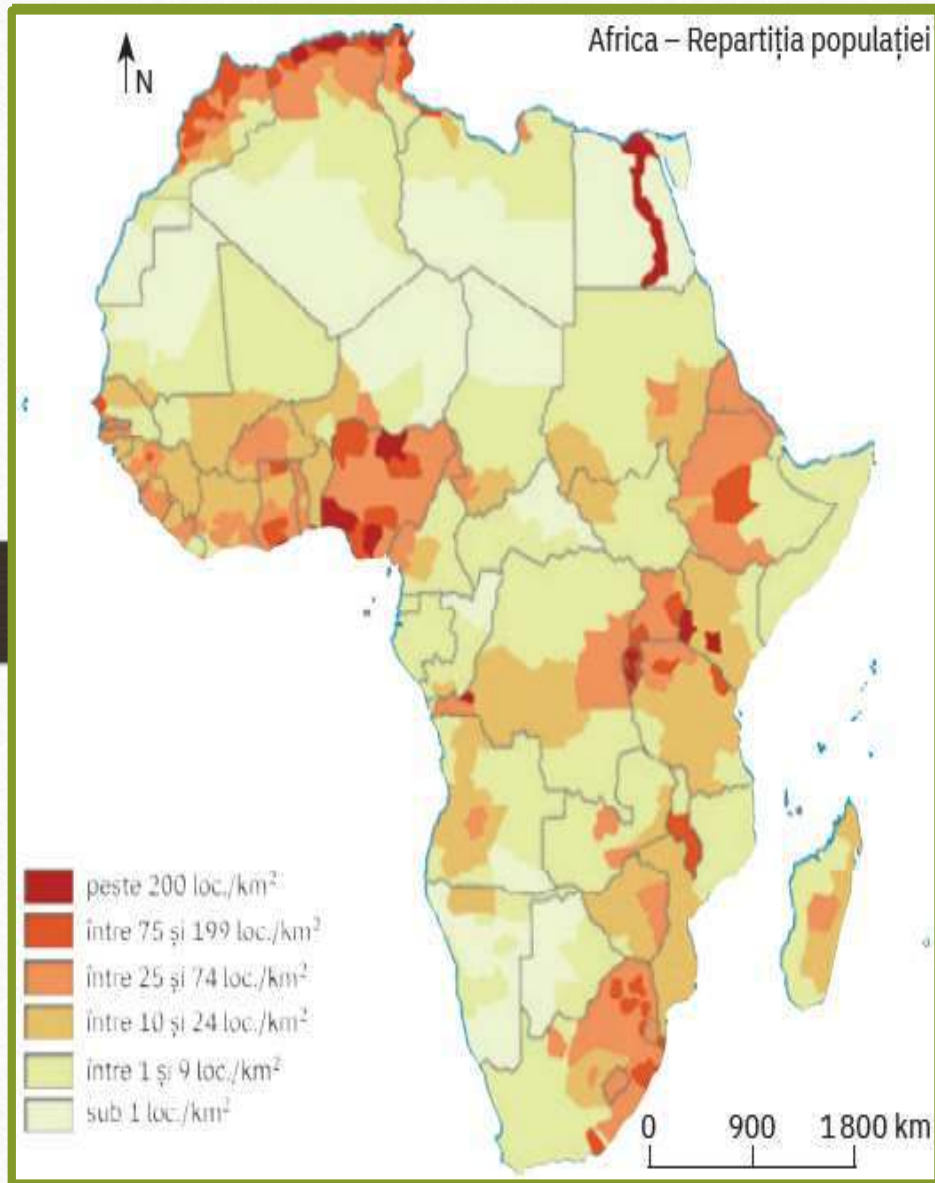


Pe harta alaturata sunt marcate, tipurile de climă și



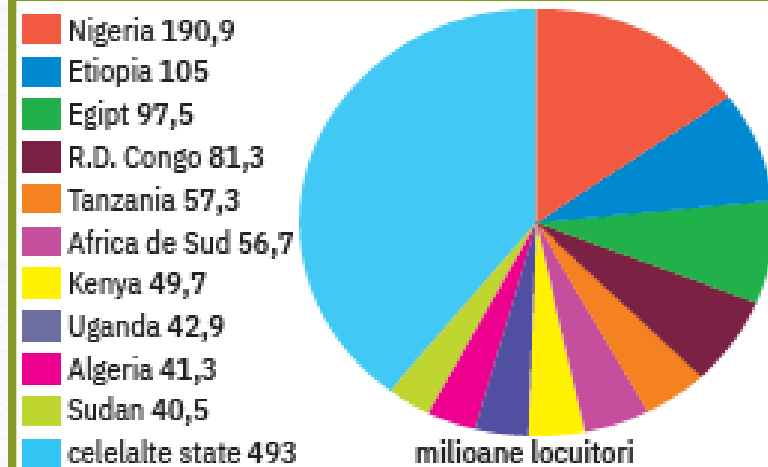
1. Precizează zona biogeografică în care se regăsesc speciile de plante sau de animale prezentate în fiecare imagine.
2. Ordonează imaginile astfel încât să evidențiezi desfășurarea zonelor biogeografice de la Ecuator spre extremitățile de nord și de sud ale continentului african.

Evoluția, dinamica și răspândirea geografică a populației Africii



Începând din ultimul deceniu al secolului trecut, populația Africii a înregistrat o creștere într-un ritm foarte (accelerat, lent). Dacă la mijlocul secolului trecut, Africa deținea 9% din populația mondială, în prezent populația acestui continent reprezintă (13%, 17%) din totalul mondial. Această creștere spectaculoasă se datorează valorilor foarte ridicate al sporului/bilanțului (**migratoriu, natural**). Cel mai populat stat african este (**Egipt, Nigeria**).

1. De ce Africa este supranumit continentul "negru sau al morții"?
2. De ce Africa mai este supranumită „leagănul omenirii”?
3. Ce civilizații străvechi au înflorit pe teritoriul Africii?
3. Cu ce probleme se confruntă Africa în prezent?

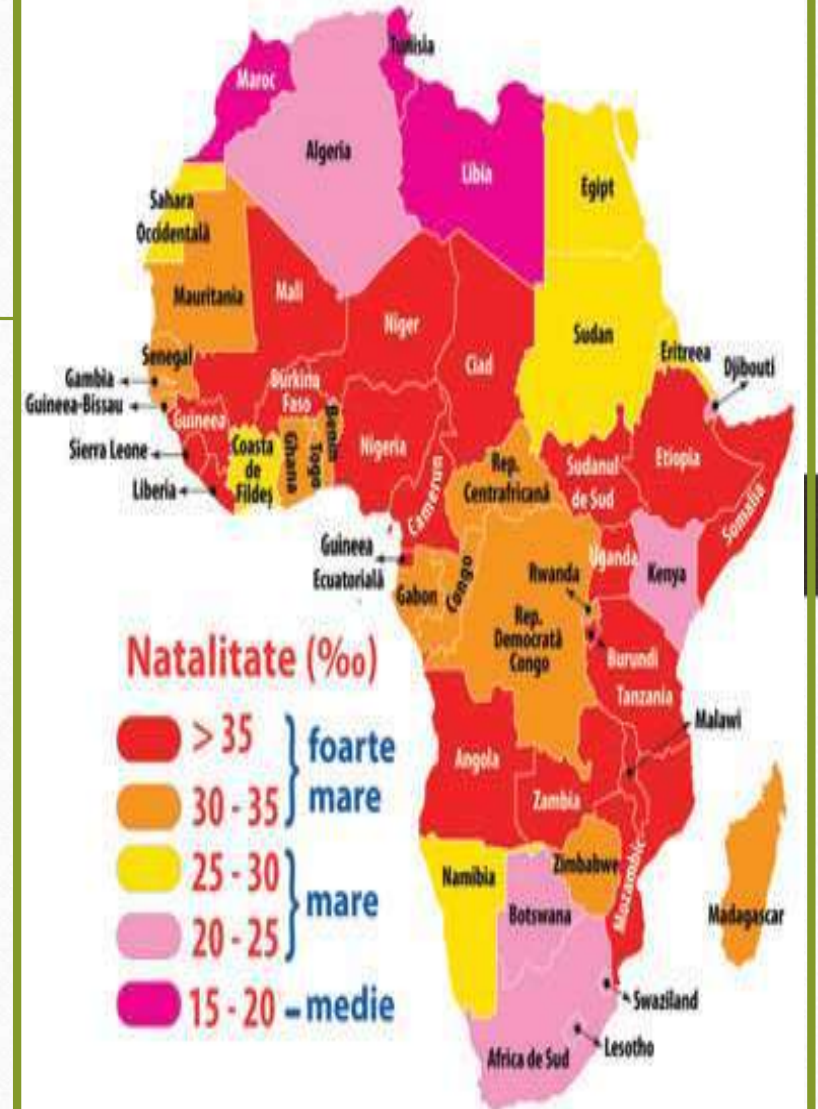


Anul	% din populația mondială
1950	9,01
1960	9,40
1970	9,90
1980	10,76
1990	11,90
2000	13,30
2010	15,08
2017	16,63
2020	17,35
2030	19,92
2050	25,86

A. Aspecte generale.

1. Numărul de locuitori

- Africa are o populație de peste 1, 2 miliarde locuitori (locul 2 după Asia) înregistrând în continuare o creștere foarte mare a populației.
- Este influențat de natalitate (34%0) mortalitate (8%0), spor natural (25%0), speranța de viață scăzută, migrația populației.





Berbero-arabi



Negrii din Sudan



Massai



Tuareg



Fule



Etiopieni



Zulusi



Boşimani



Hotentoti

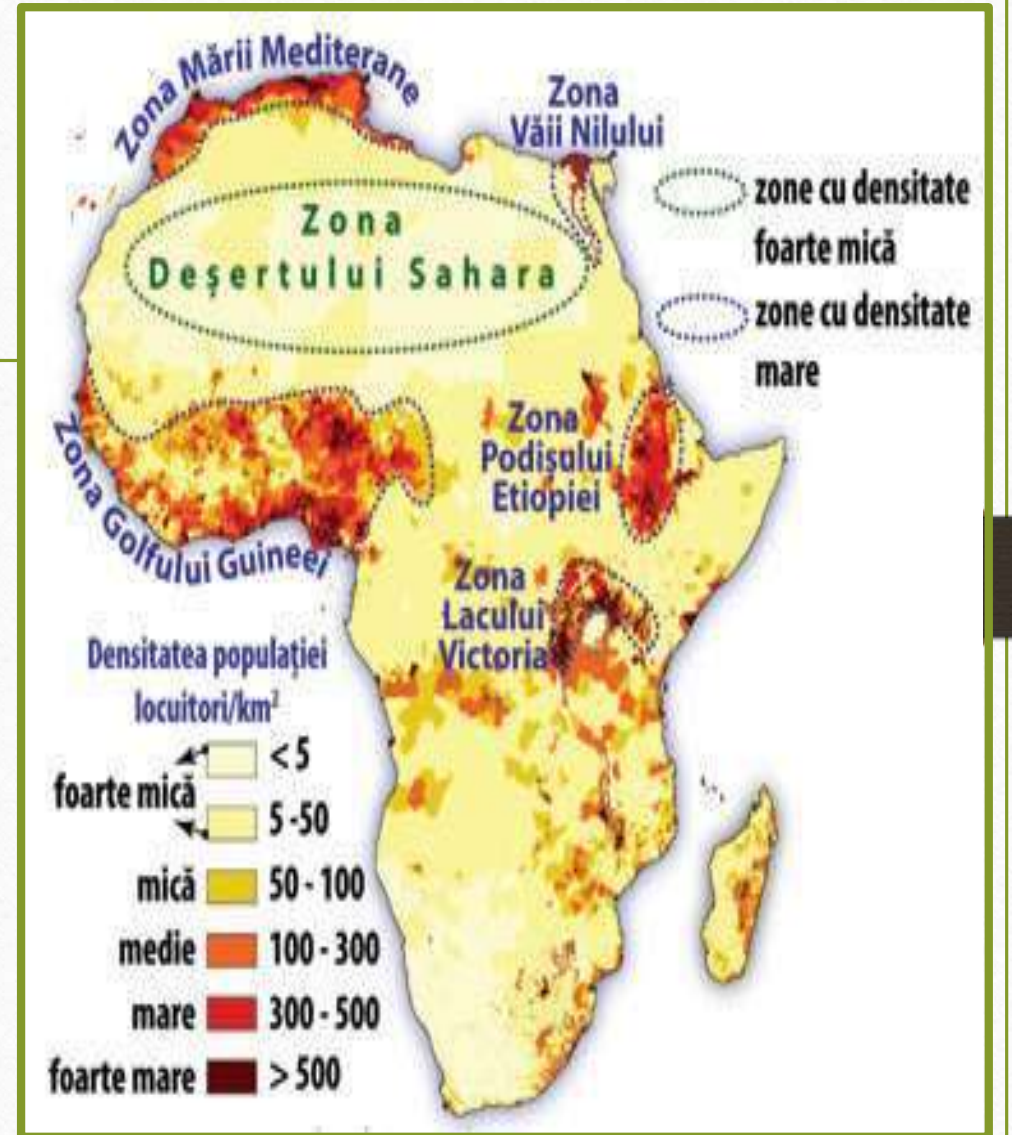


Pigmei

A. Aspecte generale.

2. Răspândirea populației

- Este neuniform răspândită:
- Densitatea medie (42 loc/kmp) este mare în bazinul inferior al Nilului, Congoului și Nigerului și în Pod. Etiopiei.
- Densitatea este mică în deșerturi (Sahara, Kalahari, Namib), pădurea ecuatorială.
- Deși este primul continent al planetei populat de om, multă vreme populația Africii a fost redusă numeric din cauza epidemiilor și a comerțului cu sclavi: în 1950, abia depășea 200 milioane locuitori, însă în prezent înregistrează tranziție demografică rapidă.





B. Specificul populației africane.

1. Cea mai tânără populație de pe Glob:

- aproape jumătate din populația continentului (la sud de Sahara) având sub 19 ani (media de vârstă în Africa).
- Natalitatea mare se datorează existenței unei populații tinere numeroase, nivelului scăzut de educație, religiei etc.



Drept consecință, o mare parte din emigranții din prezent provin din Africa, deși continentul este bogat în resurse naturale: petrol, diamante, aur, fier, cărbune, bauxită etc.

2. Gradul de alfabetizare este scăzut (peste 40% dintre tinerii Africii nu merg la școală, cel mai ridicat procent comparativ cu celelalte continente), iar *sărăcia* este una dintre cele mai mari probleme, în state precum: Republica Centrafricană, Burundi, R.D. Congo, mulți oameni supraviețuind cu echivalentul a doi dolari pe zi.

Școlii în Africa



B. Specificul populației africane.

3. Populația rurală.

- Majoritatea populației africane trăiește în zona rurală, iar ocupația de bază este agricultura.
- Satele africane sunt adaptate condițiilor naturale, casele fiind construite din piatră sau lut și împrejmuite cu un gard care are rol de apărare împotriva animalelor sălbatice
- Populația rurală ocupă 57% din totalul populației.

4. Populația urbană.

- populația urbană crește cu repeziciune, Africa nemaifiind predominant rurală (așa cum era acum câteva decenii). Peste 40% din populație locuiește în orașe. Cairo (Egipt), Kinshasa (R.D. Congo), Lagos (Nigeria) sunt aglomerații urbane care au depășit zece milioane de locuitori.



Sate și tipuri de sate în Africa

Ksar Aid-ben-Haddou




Ksar-Mt. Atlas



sat berber-Maroc




TOGO



GUINEEA BISSAU



SIRIGU-GHANA



Corturi beduine



Case troglodite-Algeria


Case tradiționale Tunisia



TRIB MUSGUM CAMERUN




NEGRII BANTU




BANDIAGARA-MALI

Sate și tipuri de sate în Africa


DORZE-Etiopia



Satul triburilor MASAI



Sat în Ciad



Satul Kraal-Africa sudică



Colibele pigmeilor



Sat din Burkina –Faso-populația bobo




Orășe în Africa

Johannesburg (Africa de Sud)



Accra (Ghana)



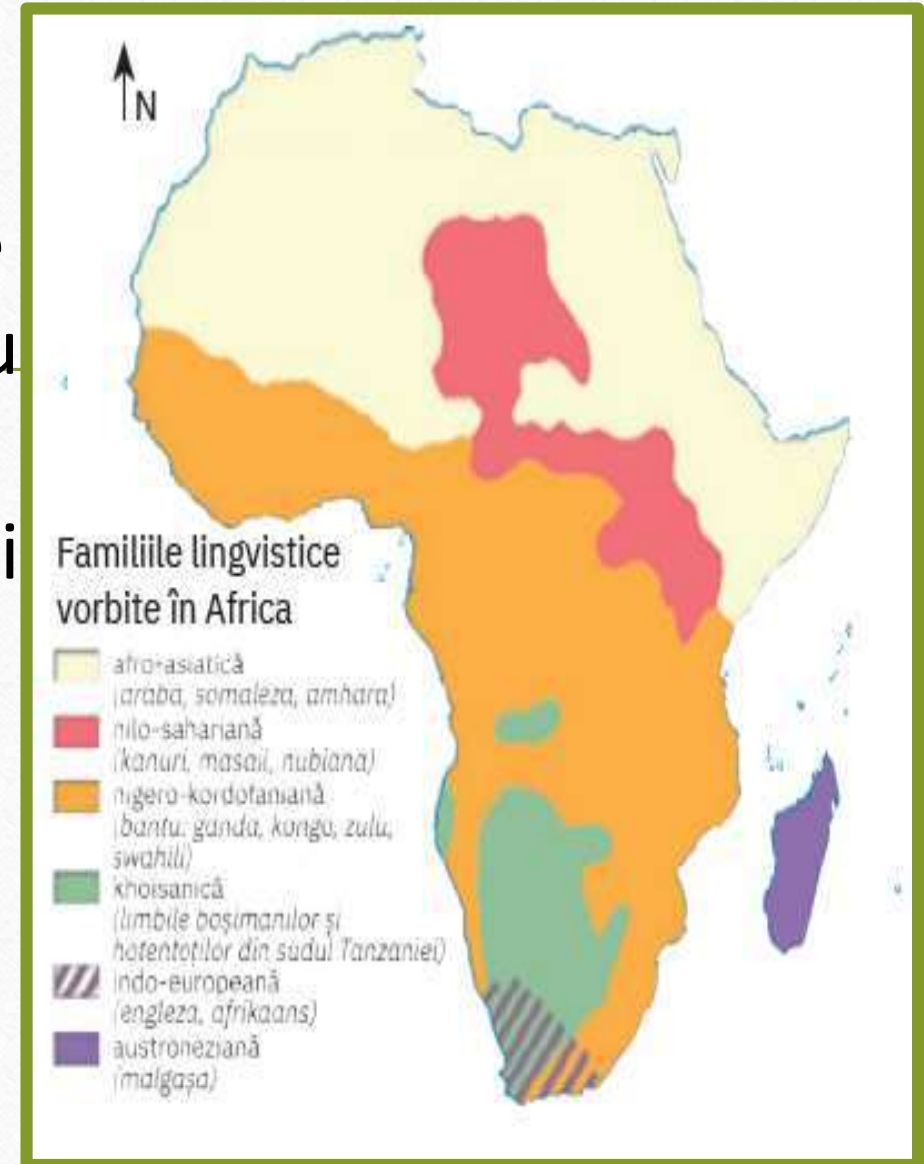
B. Specificul populației africane.

5. Diversitatea etnică, lingvistică și religioasă.

- Africa este incredibilă, existând peste 2 000 de grupuri culturale diferite. Cu toate acestea, Africa poate fi împărțită în două spații culturale largi

A. Africa de Nord (Sahariană):

- populație berberoarabă, care a rezultat din amestecul berberilor africani cu populația arabă (de culoare albă), islamică din punct de vedere confesional;



Etnii în Africa



Berbero-arabi



Negrii din Sudan



Massai



Tuareg



Fuble



Etiopieni



Zulusi



Boşimani



Hotentoți

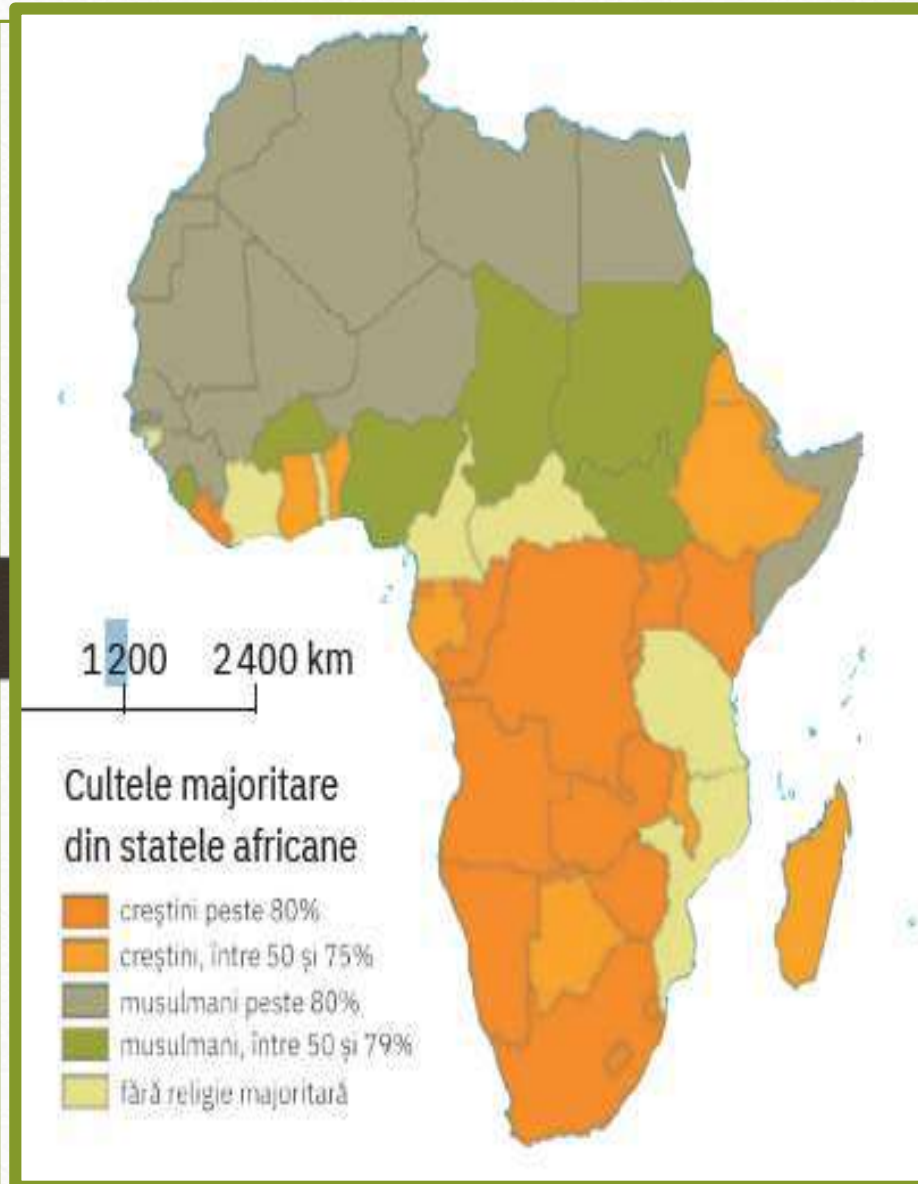


Pigmei

B. Specificul populației africane.

B. Africa Sub-Sahariană.

- cu populație neagră (cu două grupe principale: sudanezi și bantu, cu mai multe subgrupe: hutu, tutsi în partea centrală a continentului, boșimani, hotentoți, zuluși în sud), predominant creștină, alături de care s-au mai păstrat vechi practici animiste.



Etnii în Africa



Zulus (Africa de Sud)



Masai (Kenya)




Fig. 2. Pigmeu (pădurea ecuatorială, Republica Centrafricană)

Etnii în Africa

Tuareg (Deșertul Sahara, Mali)



berber



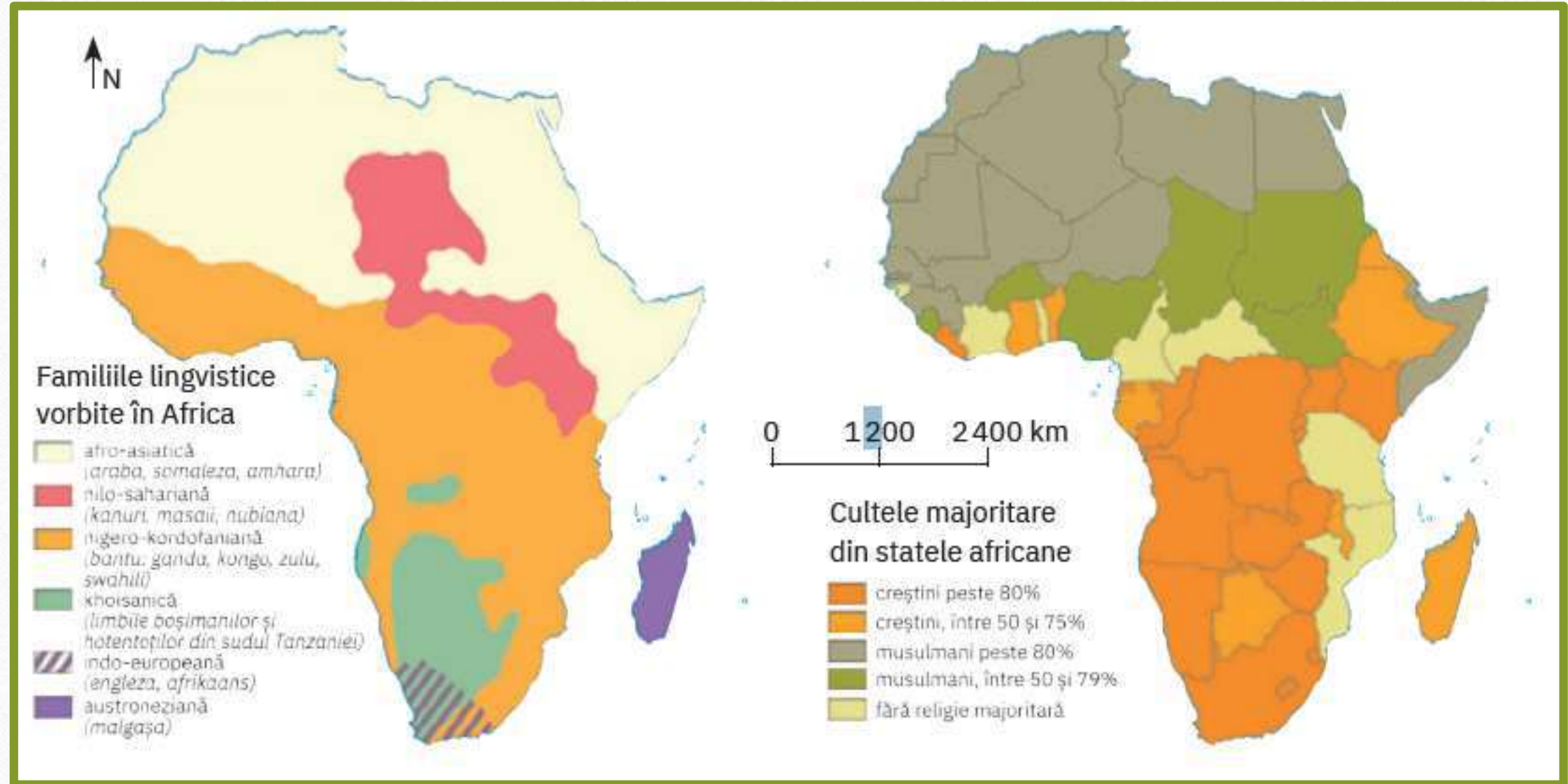
boșiman



bantu



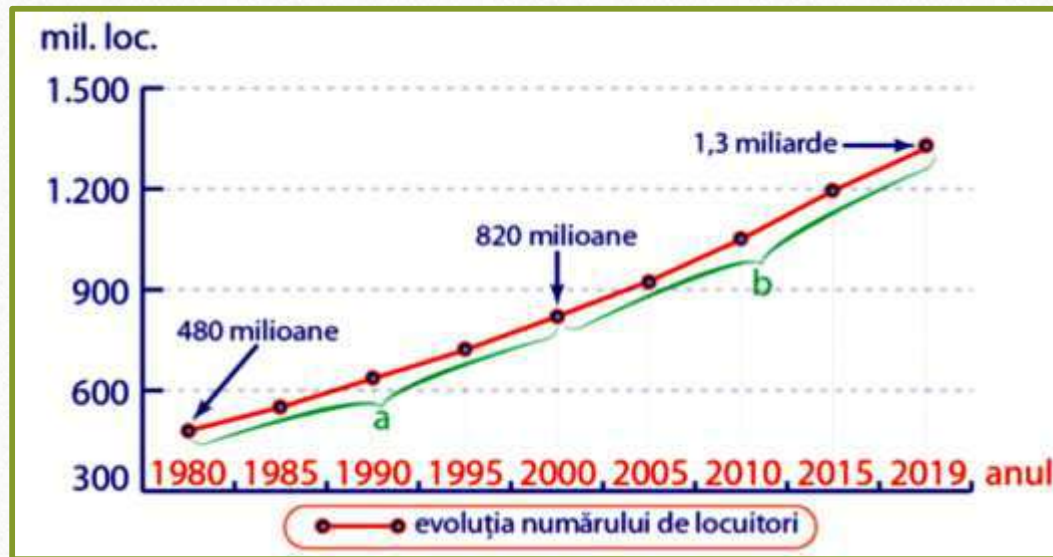
Harta lingvistică și confesională în Africa



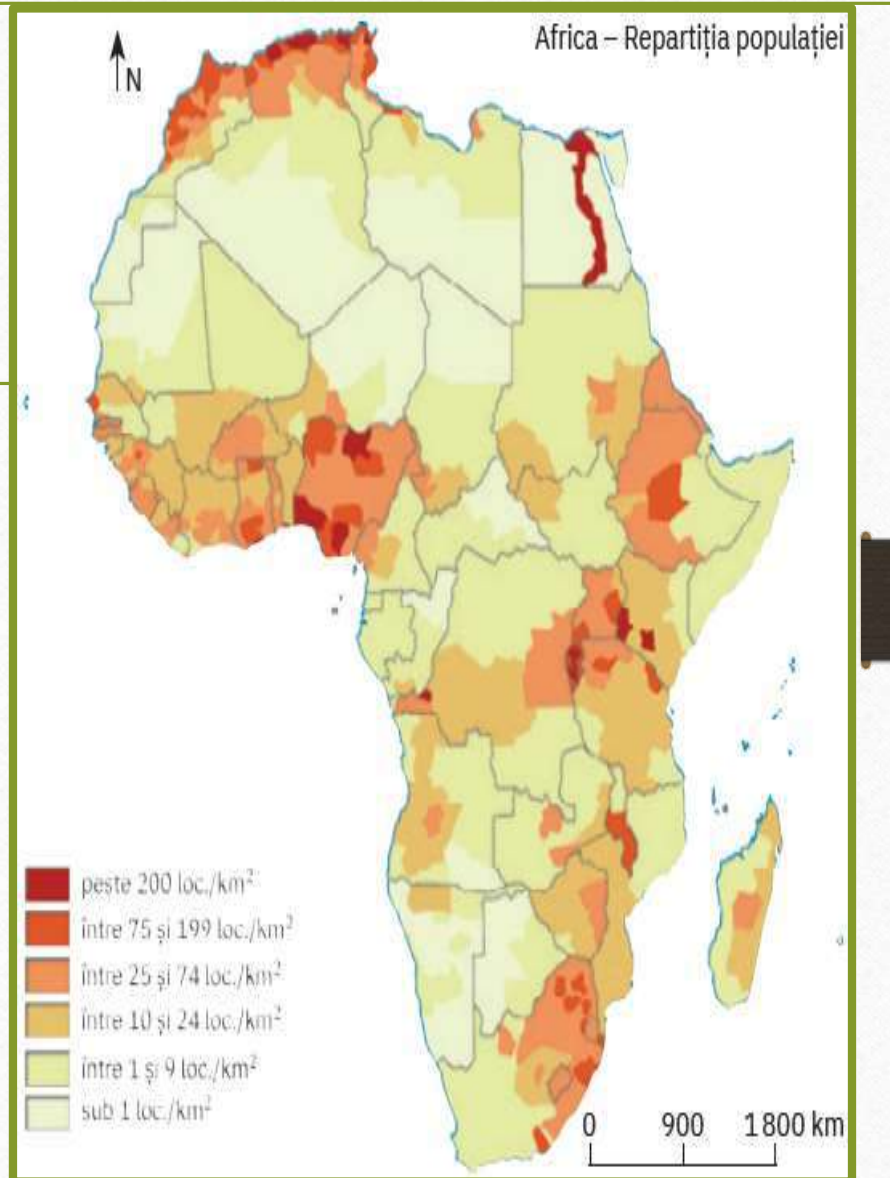
C. Test recapitulativ

Pe graficul de mai jos este redată evoluția numărului de locuitori în Africa, între anii 1980 – 2019. Cu literele a și b sunt redată două intervale de timp de 20, respectiv 19 ani. Rezolvă următoarele sarcini de lucru:

1. Calculează cu cât a crescut populația Africii în fiecare dintre intervalele de timp marcate cu a și b. 2. Precizează două cauze care au determinat creșterea continuă a populației Africii din anul 1980 până în anul 2019.



Analizează harta de mai sus și prezintă factorii care determină și influențează răspândirea neuniformă a populației. Explică de ce în regiunile litorale există mari concentrări de populație.



BIBLIOGRAFIE

- **Geografie: clasa a VII-a**, Silviu Neguț, Carmen-Camelia Rădulescu, Ionuț Popa, Editura Art Klett, București, 2019;
- **Geografie: manual pentru clasa a VII-a**, Mihaela Fiscutean, Dorin Fiscutean, Ciprian Mihai, Editura Avantgarde Center, București, 2019;
- **Geografie: manual pentru clasa a VII-a**, Marius-Cristian Neacșu Editura CD Press, București, 2019.
- www.wikipedia.org
- www.didactic.ro