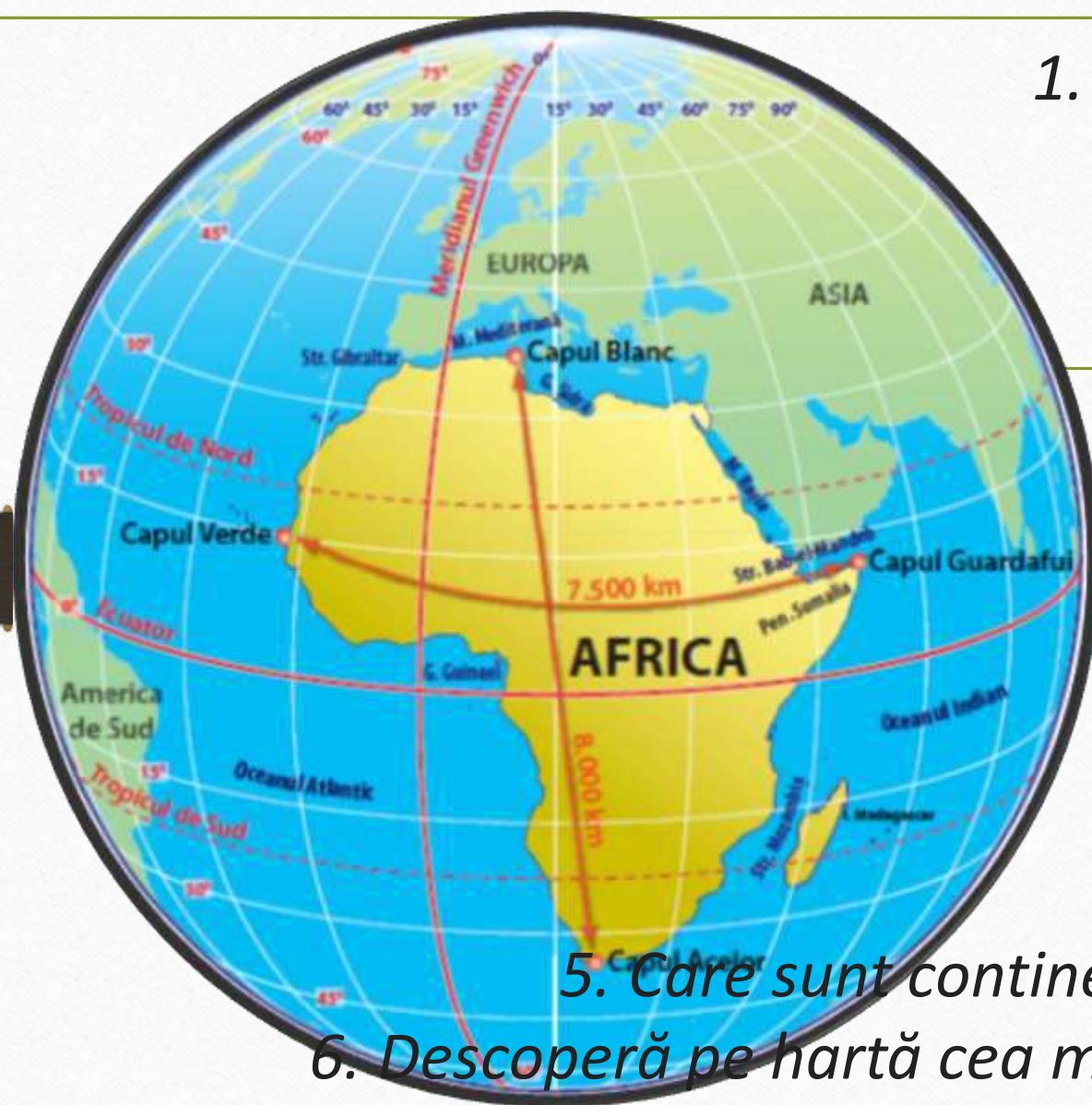


Unitatea 2. Explorăm Africa

1. Poziția geografică– simetrie latitudinală

Profesor: Pap Florian Gheorghe
Școala. Colegiul "Mihai Viteazul"
Ineu



1. Care sunt paralelele și meridianele importante ce intersectează Africa?

2. Care sunt punctele extreme ale Africii?

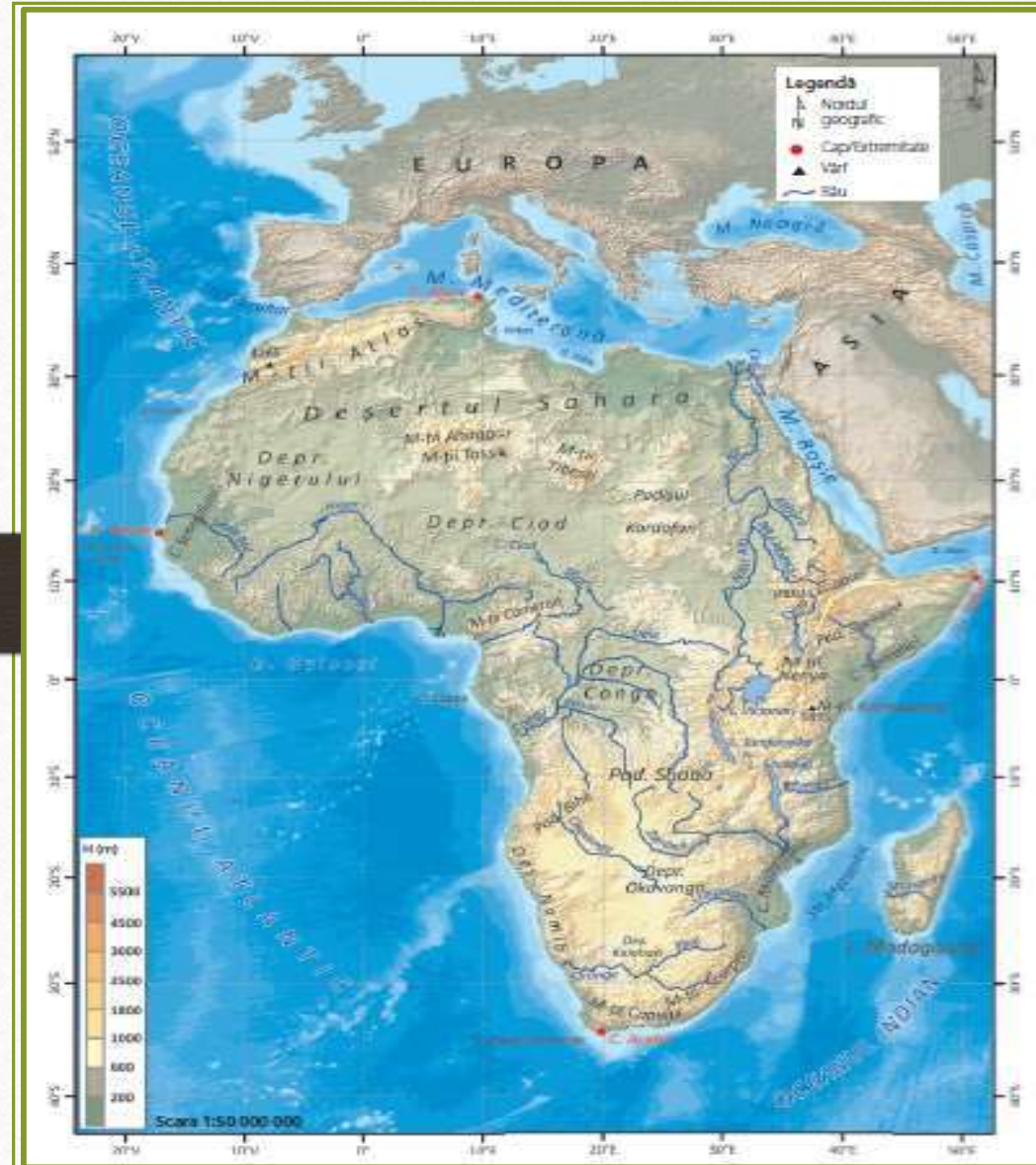
3. De ce crezi că Africa este caracterizată ca fiind un continent „în oglindă”?

4. Care sunt principalele bazine oceanice care delimitează continentul african?

5. Care sunt continentele cele mai apropiate de Africa?

6. Descoperă pe hartă cea mai mare insulă care aparține Africii.

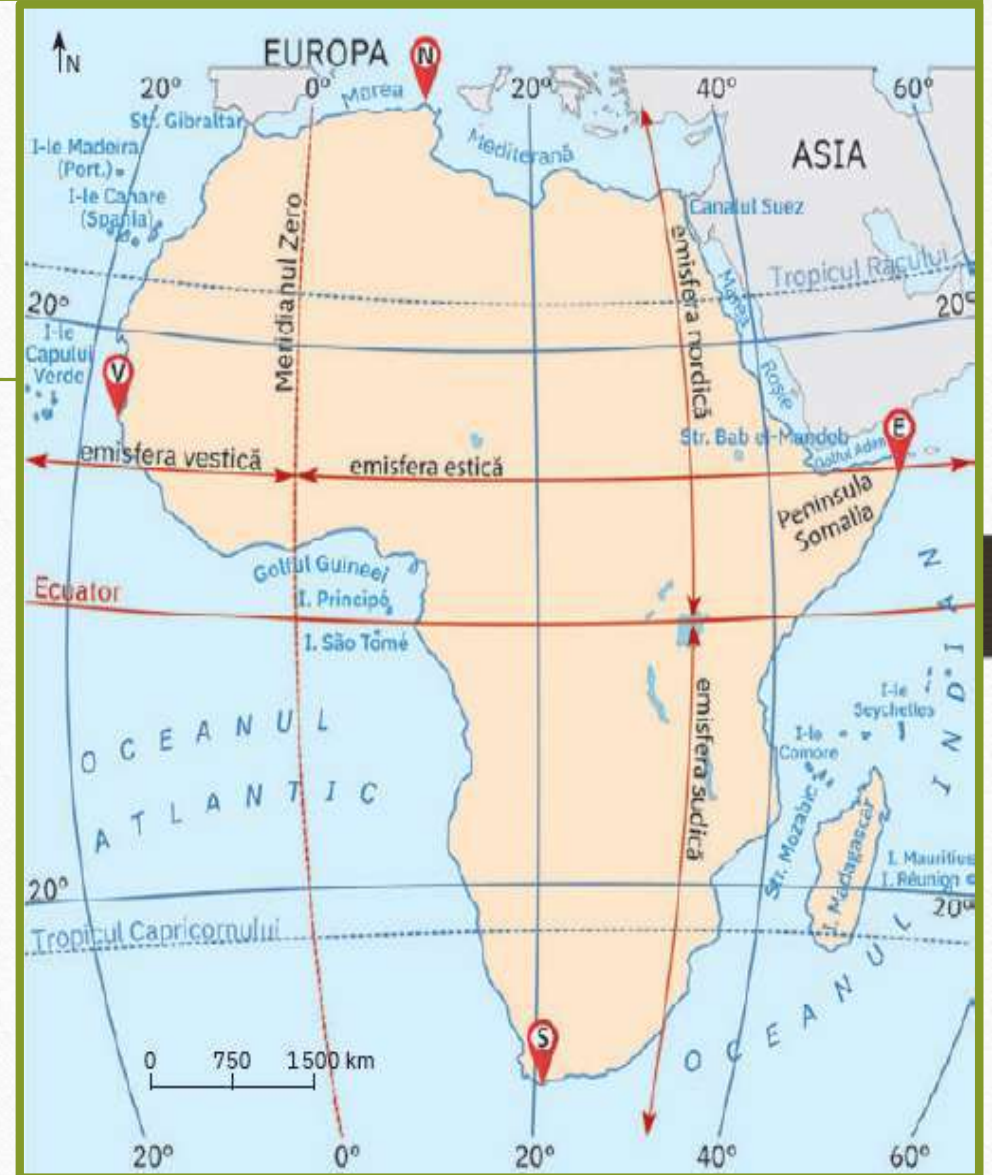
1. Poziția pe Glob.



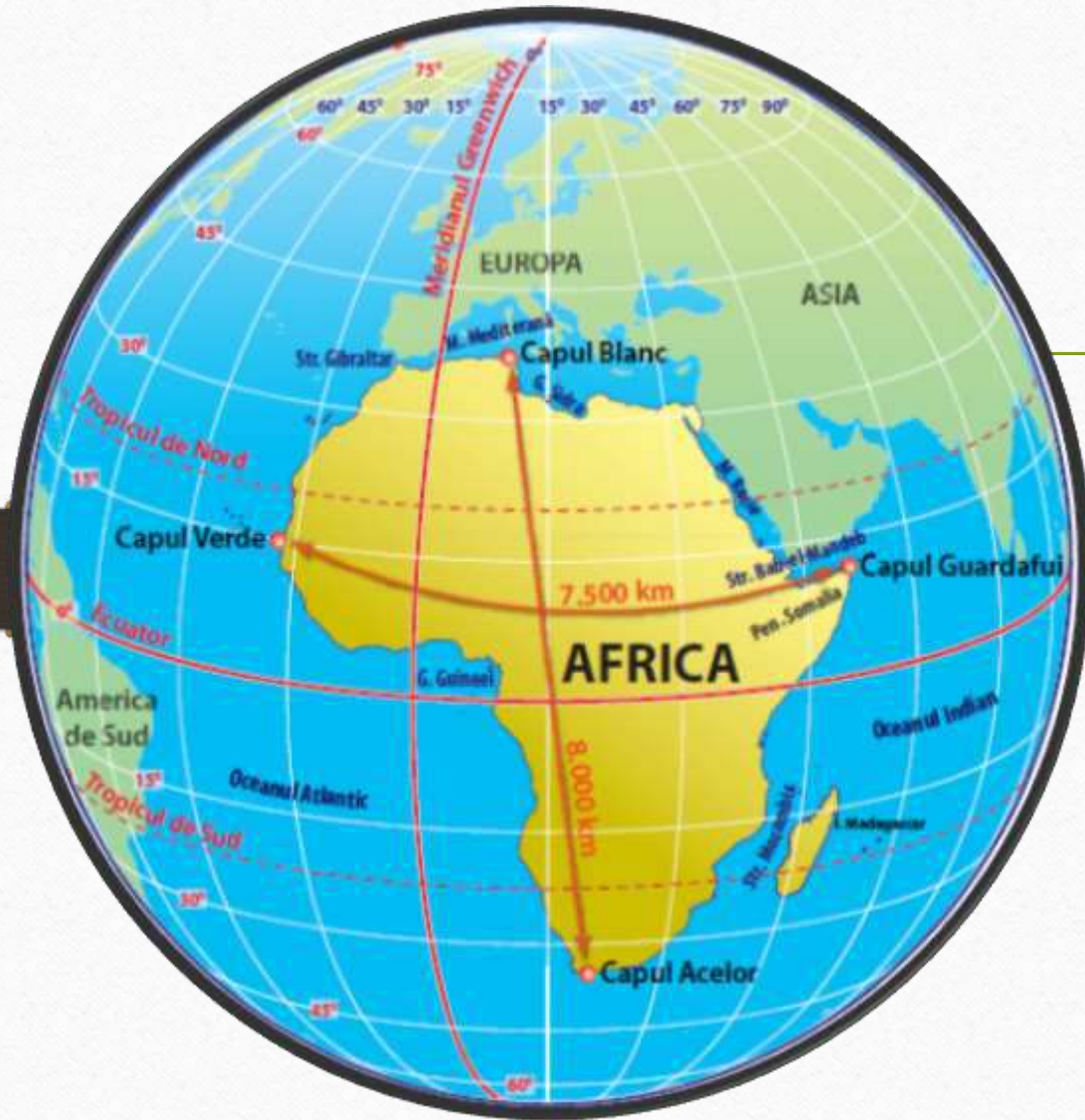
- ✓ Africa este al treilea cel mai întins continent al planetei (30 mil. km²),
- ✓ Are forma unui triunghi cu baza în Marea Mediterană (în nord) și cu vârful în sud, la întâlnirea apelor Oc. Indian și Atlantic.
- ✓ Africa se învecinează cu două continente: cu Europa și cu Asia
- ✓ Africa este înconjurată de două oceane: Oceanul Atlantic, în vest și Oceanul Indian, în est.

2. Paralele și meridiane importante..

- ✓ Africa este traversată, prin partea centrală, de Ecuator, de cele două Tropice, iar Meridianul de 0° îl intersectează în partea de vest.
- ✓ Consecințe:
 1. Se desfășoară simetric la nord și la sud de Ecuator, de unde rezultă paralelismul zonelor de climă și biogeografice;
 2. Este un continent care se află aproape în întregime în zona de climă caldă, cu excepția extremităților nordică și sudică;
 3. Africa se întinde în toate cele patru emisfere ale Globului.



3. Limite și Puncte extreme



1. *Marea Mediterană și Capul Blanc* (Tunisia), 37° latitudine nordică;
2. *Oceanul Sudic și Capul Acelor* (Africa de Sud), 34° latitudine sudică;
3. *Oceanul Atlantic și Capul Verde* (Senegal), 14° longitudine vestică;
4. *Oceanul Indian și Capul Ras Hafun* (Somalia), 51° longitudine estică.
5. Între punctele extreme are 8 012 km pe direcția N-S și 7 400 km pe direcția V-E.

4. Țărmurile Africii

- ✓ Este un continent masiv, cu țărmuri puțin fragmentate, cu puține insule, golfuri și pen.:
1. Țărmul nordic - Delta Nilului - În Pen. Sinai – Canalul Suez (inaugurat în anul 1869)
2. Țărmul nord-estic - litoralul Mării Roșii - cu litoralul Oc. Indian – Arh. Socotra și Insula Extraterestră, datorită vegetației sale unice



3. Țărmul estic – Peninsula Somalia (Cornul Africii) și Insula Madagascar.

4. Țărmul sudic este scurt, având deschidere la Oceanul Indian.

5. Țărmul vestic are ieșire la Oceanul Atlantic, aici fiind prezent și cel mai mare golf al Africii, Golful Guineei.

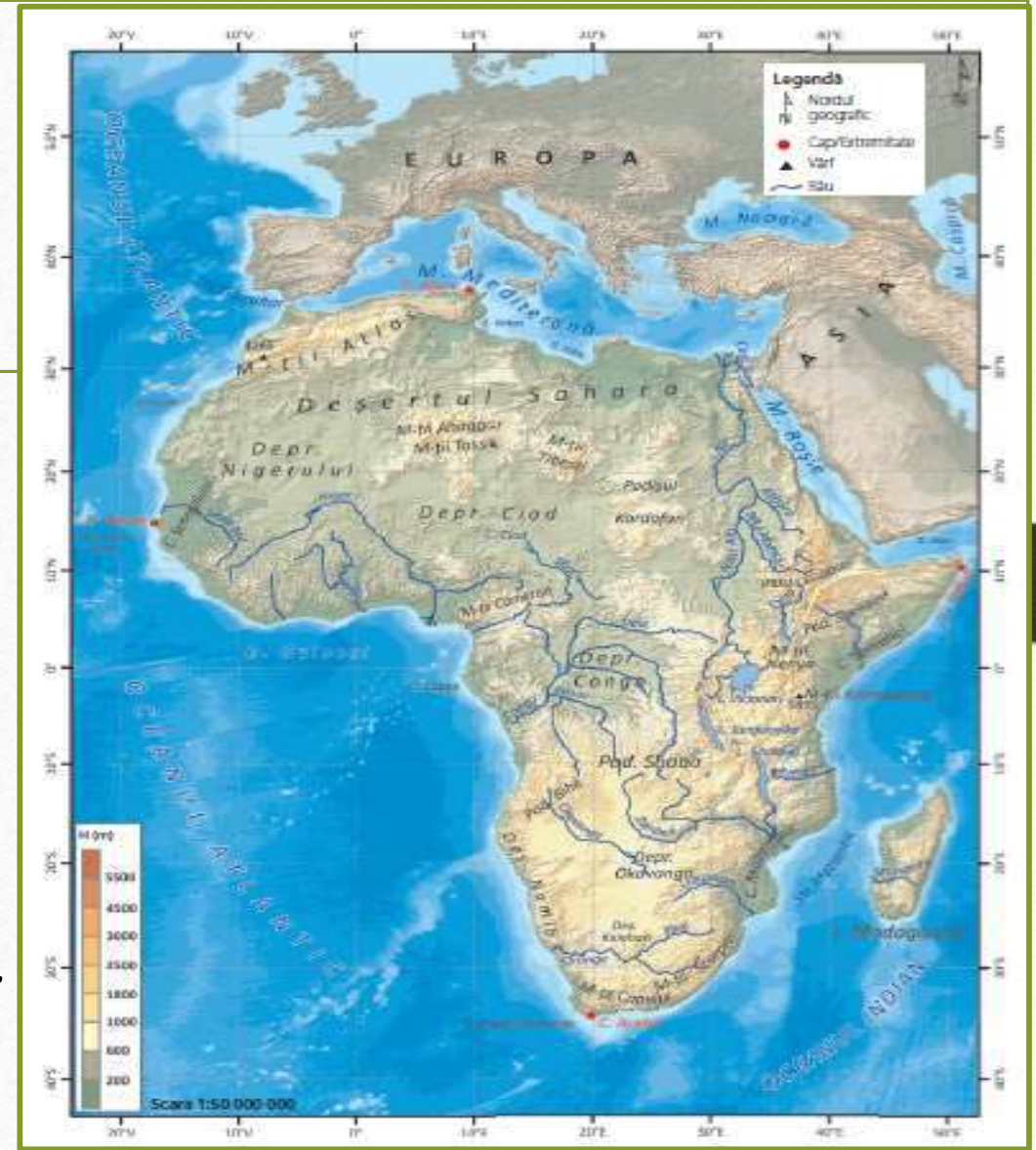


5. Test recapitulativ A

ȘTIAI CĂ? Denumirea continentului provine de la latinescul *africa* („însorită“), grecescul *aphrike* („fără frig“) sau de la populația berberă *afrigi* din nordul continentului.

Urmărește harta fizico-geografică a Africii și selectează litera corespunzătoare răspunsului corect (model A-c):

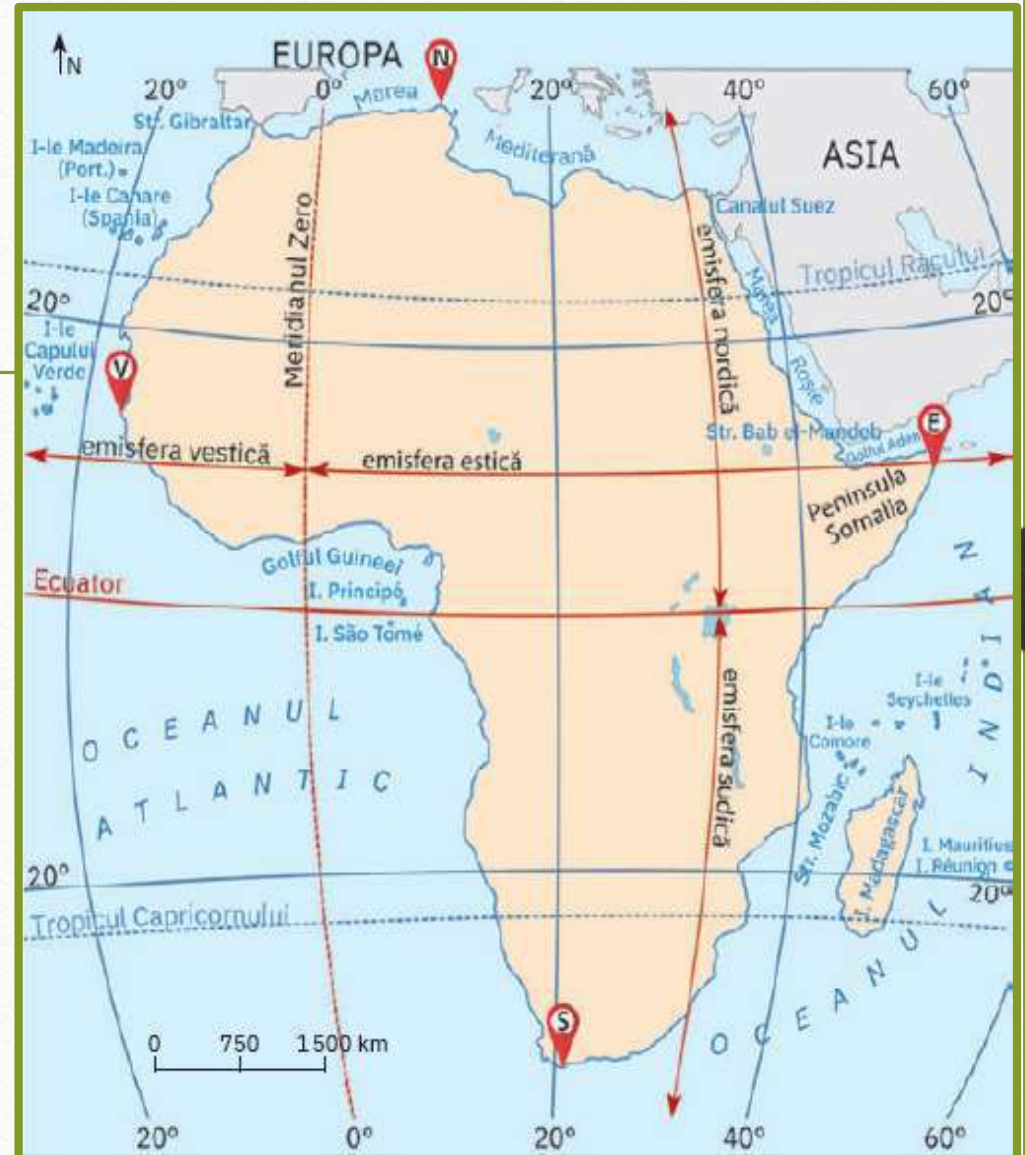
- Canalul Suez face trecerea din Marea Roșie în:
a. Marea Mediterană b. Oc. Atlantic c. d. Oc. Indian
- Nu se regăsește printre golfurile Africii, Golful:
a. Gabes b. Sidra c. Bengal d. Guineei
- Extremitatea nordică a Africii o reprezintă Capul:
a. Acelor b. Hafun c. Verde d. Blanc
- Calculează diferența în grade dintre extremitățile:
a. nordică (Capul Blanc) și sudică (Capul Acelor);
b. estică (Capul Hafun) și vestică (Capul Verde);



5. Test recapitulativ C

Analiză critică

1. Observă cu atenție forma continentului și explică faptul că simetria latitudinală este dată de poziția uscatului african și nu de desfășurarea suprafeței sale în raport de Ecuator.
2. Precizează o consecință de natură climatică ce decurge din așezarea Africii de-o parte și de alta a Ecuatorului.
3. Imaginează-ți că te afli la Capul Ras Hafun. Ce oră ar indica ceasul tău, dacă într-o localitate africană aflată în primul fus orar ar fi ora 12.00?
4. Analizează harta și notează pe foaia de test principalele articulații ale țărmurilor Africii.
5. Explică de ce lungimea totală a țărmurilor africane (28 000 km) este mai redusă decât lungimea țărmurilor europene (32 000 km), deși suprafața Africii este de trei ori mai mare decât a Europei.



BIBLIOGRAFIE

- **Geografie: clasa a VII-a**, Silviu Neguț, Carmen-Camelia Rădulescu, Ionuț Popa, Editura Art Klett, București, 2019;
- **Geografie: manual pentru clasa a VII-a**, Mihaela Fiscutean, Dorin Fiscutean, Ciprian Mihai, Editura Avantgarde Center, București, 2019;
- **Geografie: manual pentru clasa a VII-a**, Marius-Cristian Neacșu Editura CD Press, București, 2019.
- www.wikipedia.org
- www.didactic.ro